

ملزمة وأوراق عمل مادة العلوم

الصف الثاني الابتدائي
الفصل الدراسي الثاني لعام ١٤٤٥ هـ

الاسم :

الفصل :





[illegible]








الدرس الأول (اليابسة)

أغلفة الأرض



٢_ من خلال الصور التالية نحدد اشكال اليابسة :



٣- نصل بين المفردة والعبارة المناسبة لها :

أجزاء صغيرة من اليابسة محاطة بالماء من
جميع الاتجاهات

قلرة

الأجزاء الكبيرة من اليابسة محاطة
بالمحيطات

جزيرة





الدرس الأول (اليايسة)

١_ نكمل الفراغات التالية بما يلي :

التلال

الوادي

الجبل

مختلفة

١_ منطقة مرتفعة جدا من اليايسة


٢- اليايسة لها اشكال

٣_ ارض منخفضة بين الجبال والتلال

٤- مناطق مرتفعة ولكن أقل ارتفاع من الجبال



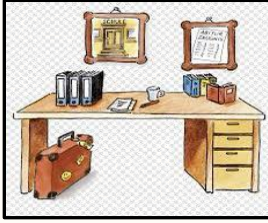
٢_ من الشكل السابق احدد الى ماذا تشير الألوان ؟





الدرس الثاني (الماء على الأرض)

١_ من خلال الصور نضع إشارة ✓ تحت استخدامات الماء :



٢_ هل العبارات التالية صحيحة؟

- ١_ تغطي المحيطات ثلاثة ارباع الأرض (.....)
- ٢_ من مصادر الماء العذب الابار (.....)
- ٣_ توجد معظم مياه الأرض في الجبال (.....)

٣_ الحيوان التالي لا يستطيع أن يشرب من :



الأنهار

المحيطات

العيون





الفصل السادس (موارد الأرض)

الدرس الأول (الصخور والمعادن)

١_ نصل كل مفردة مع العبارة المناسبة :


أجزاء غير حية تتكون منها الصخور

الصخور



أشياء غير حية موجودة في الأرض

المعادن

٢_ نربط بين صورة المعدن واستعمالاته :



موارد طبيعية





الدرس الثاني (التربة)

١_ فصل كل صورة بالعبرة المناسبة :



تربة زراعية (سطحية) فيها كثير
من الدبال

تربة طينية

تربة رملية


٢_ من خلال الصورة نكتب المطلوب

١_ افضل طبقة لنمو النباتات :

.....

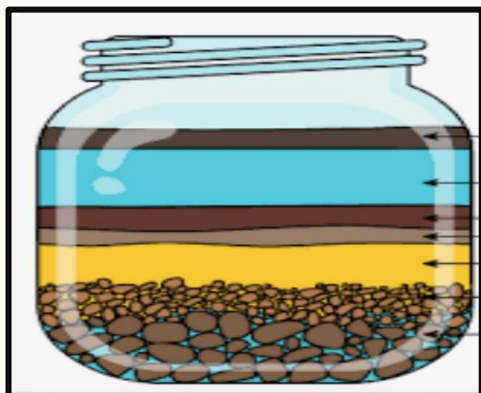
٢_ تحتوي التربة السطحية على :

.....



الدرس الثاني (التربة)

مما تتكون التربة؟



..... ١ _

..... ٢ _

(.....) تربة تحوي الكثير من بقايا النباتات

والحيوانات المتحللة



تختلف التربة في لونها وملمسها:



فطاً



أو

صفيح





الوحدة الرابعة (الفضاء)

الفصل السابع (الأرض والسماء)

التوصيات	التقييم		
			





الدرس الأول (الليل والنهار)

١_ نصل بين المفردة والعبارة المناسبة لها :

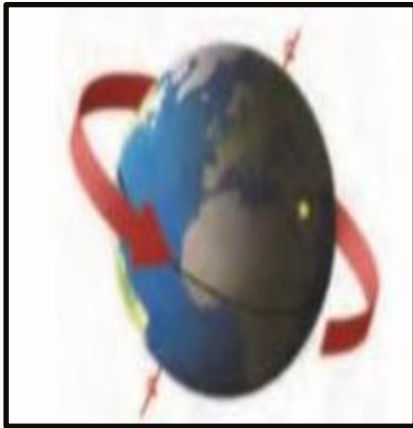
مسار تتبعه الأرض في أثناء دورانها

خط مركزي يدور حوله الجسم

محور الأرض

مدار الأرض

توضح الصورة التالية :



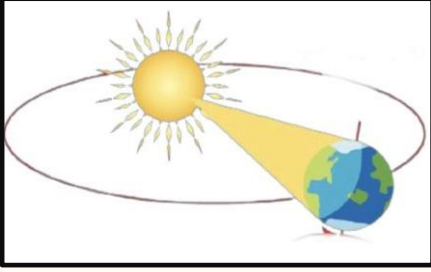
١_ (.....)

٢_ دورة الأرض الكاملة مدتها ساعة .





الدرس الأول (الليل والنهار)



١- ماذا ينتج عن دوران الأرض حول الشمس ؟

٢- اختر الصورة التي تمثل الليل

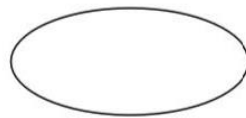
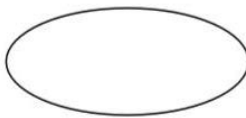
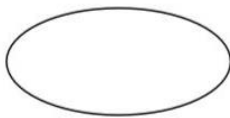


(.....)



(.....)

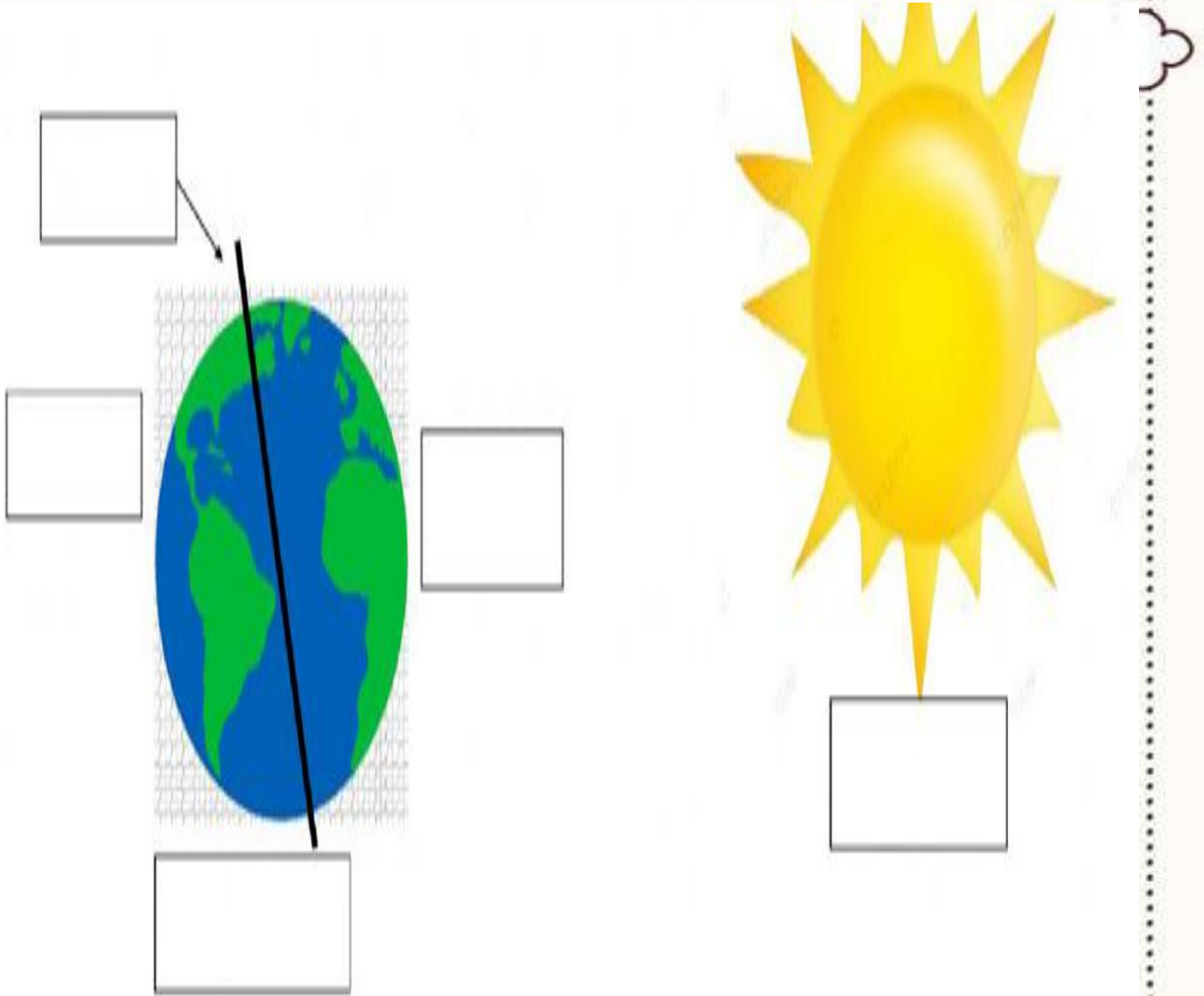
٣- من خلال الصور التالية ومشاهدة الظل نكتب الوقت المناسب :





الدرس الأول (الليل والنهار)

١- نكمل حسب المطلوب في الصورة :



النهار

المحور

الشمس

الليل

الأرض





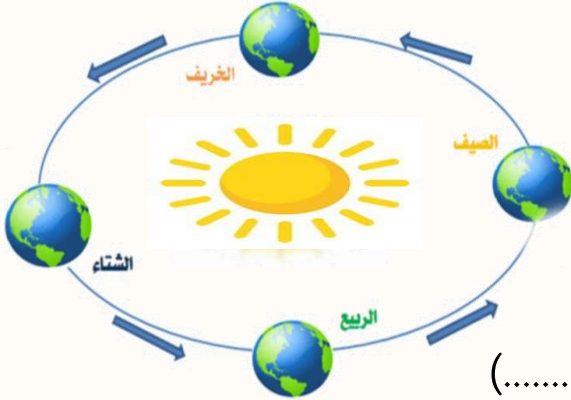
الدرس الثاني (سبب حدوث الفصول)

١- تحت كل صورة نكتب اسم الفصول الأربعة :



(.....) (.....) (.....) (.....)

٢- في الصورة التالية مالمظاهرة التي تنتج عن دوران الأرض حول الشمس



.....

٣- أجب عما يأتي بصح أو خطأ:

١- في الخريف يتغير لون أوراق الشجر (.....)

٢- تتساقط الثلوج في فصل الصيف (.....)



أو





الفصل الثامن (السماء)

الدرس الأول (القمر والنجوم)

١- من خلال الكلمات التالية نكمل العبارات:

ثمانية

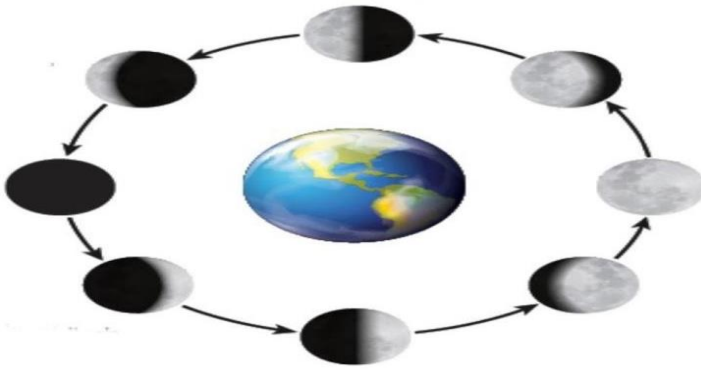
الكواكب

النجم

١- نظامنا الشمسي فيه..... كواكب


٢- يصدر ضوء وحرارة

٣- جسم كروي يدور حول نجم






٢- ماذا نسمي اشكال القمر خلال الشهر؟

.....
.....



صفات النجوم






الدرس الأول (القمر والنجوم)



أو



النجوم كلها مضيئة (.....)



مَنْ أَنَا؟

نجم متوسط الحجم , يبدو
كبيرا لأنه قريب من
الأرض

(.....)





الدرس الثاني (النظام الشمسي)



١_ مما يتكون نظامنا الشمسي ؟

.....#

.....#

.....#



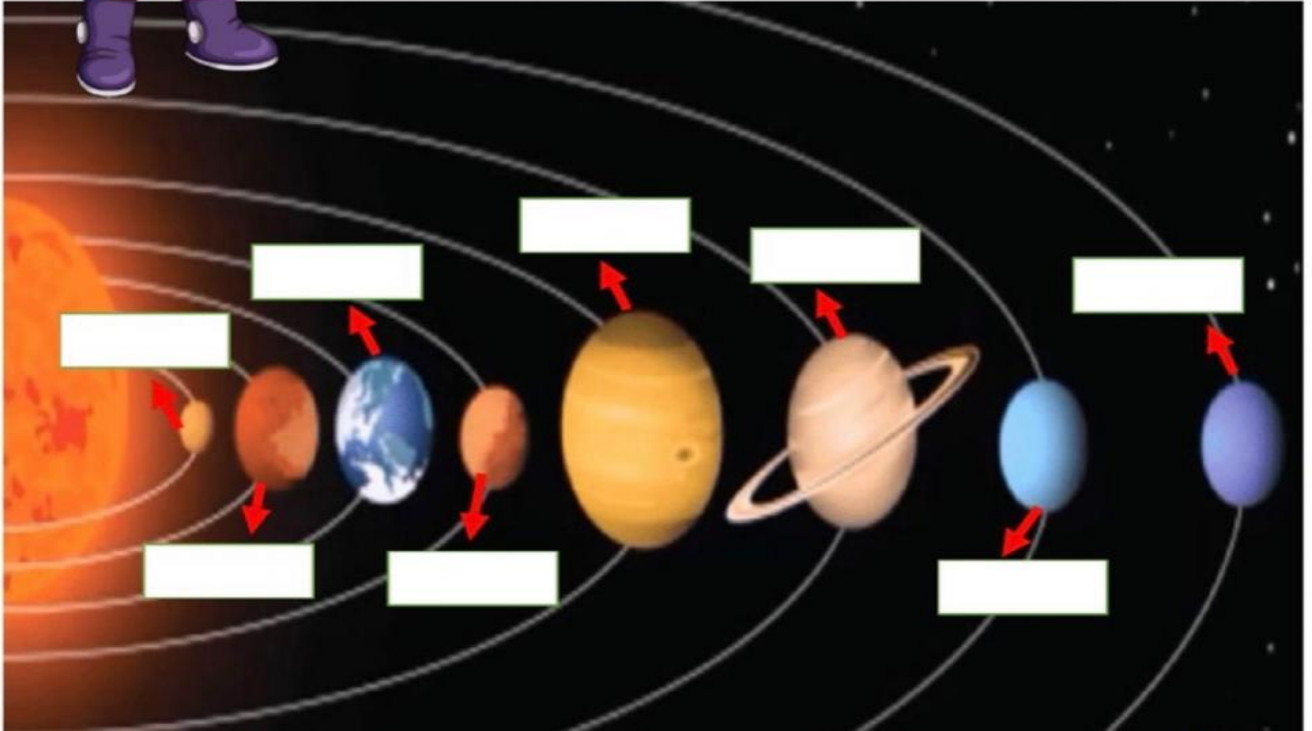


الدرس الثاني (النظام الشمسي)

١_ مالذي يدور حول الشمس؟



الأرض عطارد زحل المشتري
اورانوس نبتون الزهرة المريخ



٢_ على الصورة السابقة ندون أسماء
الكواكب في المكان المخصص





الدرس الثاني (النظام الشمسي)

١- نصل كل كوكب بالعبارة المناسبة له :

فيها ماء وهواء ولها قمر واحد



له حلقات حوله مكونة من الثلج والصخور



اكبر الكواكب وله ٦٣ قمرا



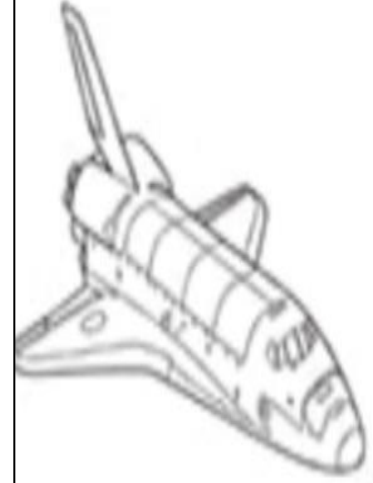
اسخن الكواكب حيث تحجب سحبه الكثيفة
حرارة الشمس





الدرس الثاني (النظام الشمسي)

اقْرَأ وَلَوِّن



زُحَل

