

# الوحدة الأولى

## جغرافية المملكة العربية السعودية

### دروس الوحدة

- ❖ الدرس الأول: الموقع
- ❖ الدرس الثاني: مظاهر التضاريس
- ❖ الدرس الثالث: المناخ
- ❖ الدرس الرابع: توزيع السُّكَّان
- ❖ الدرس الخامس: تركيبة السُّكَّان
- ❖ الدرس السادس: عدد السُّكَّان



# أهداف الوحدة



تهدف هذه الوحدة إلى:

- التعرف على موقع المملكة العربية السعودية وتضاريسها ومناخها
- التعرف على سكان المملكة العربية السعودية وتوزيعهم
- استنتاج عوامل النمو السكاني في المملكة العربية السعودية



وزارة التعليم

Ministry of Education

2022 - 1444



## الدرس الأول

## الموقع

**الموقع وطني المملكة العربية السعودية أهمية جغرافية وإقليمية وعالمية، فما أبرز خصائص موقع وطني الفلكي والجغرافي؟**

### «الموقع الفلكي وخصائصه»

تقع المملكة العربية السعودية بين دائرتي العرض  $17^{\circ}$  و  $14^{\circ}$  ٣٢ درجة شمال خط الاستواء، على مدار  $16^{\circ}$  درجة عرضية تقريباً، وبين خطي الطول  $40^{\circ}$  و  $55^{\circ}$  شرق خط جرينتش. لتمد أكثر من ٢١ درجة من خطوط الطول.

ومن أبرز خصائص موقع المملكة العربية السعودية المؤثرة في درجة الحرارة شيان:

- ١- أن معظم مساحة المملكة العربية السعودية تقع في العروض المدارية الحارة، ويتأثر بثلاثة أقاليم مناخية، هي:
- الإقليم المداري شبه الموسمي في المرتفعات الجنوبية الغربية، وهو معتدل الحرارة في الصيف، وبارد في الشتاء مع أمطار صيفية.
- وينحصر بين دائرتي العرض  $17^{\circ}$  و  $18^{\circ}$  درجة شمالاً.



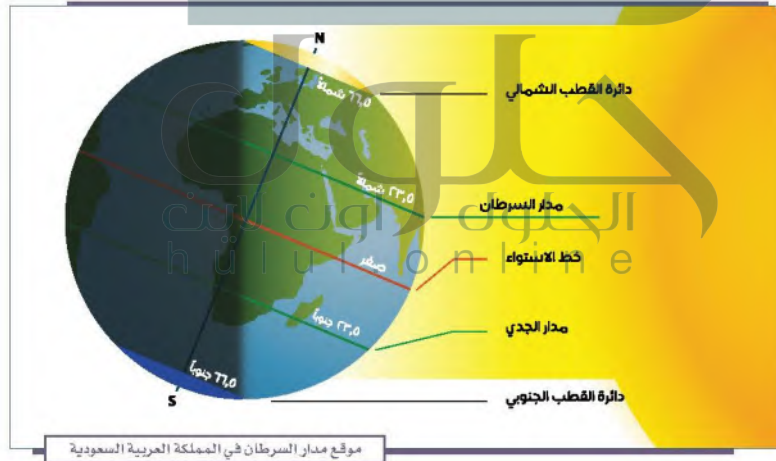
موقع مدار السرطان في المملكة العربية السعودية



الإقليم الصحراوي الحار والجاف جداً صيفاً والبارد الممطر أحياناً شتاءً. وهو يغطي معظم مساحة المملكة؛ ويعد هو الأكثر اتساعاً وتأثيراً، ويقع بين دائرتي العرض ١٨° و ٣٠° درجة شمالاً.

الإقليم المعتدل ويتأثر بمناخ البحر المتوسط، وهو حار جاف صيفاً دافئ ممطر شتاءً، ويكون في المناطق الشمالية الغربية، ويحصر بين دائرتي العرض ٣٠° و ٣٢°٤' شمالاً.

٢- أن مدار السرطان يمر بوسط المملكة العربية السعودية تقريباً عند درجة العرض ٢٣° ٣٠' شمالاً، وهو آخر نقطة تتعامد عليها أشعة الشمس في ٢١ يونيو من كل عام.



## «الموقع الجغرافي وخصائصه»

تقع المملكة العربية السعودية في أقصى الجنوب الغربي من قارة آسيا؛ ويحدها غرباً البحر الأحمر، وشرقاً الخليج العربي والإمارات العربية المتحدة ومملكة البحرين ودولة قطر، وشمالاً دولة الكويت وجمهورية العراق والمملكة الأردنية، وجنوباً الجمهورية اليمنية وسلطنة عمان.

وتشغل المملكة العربية السعودية نحو ثلثي مساحة شبه الجزيرة العربية، إذ تبلغ مساحتها ٢,٠٠٠,٠٠٠ (مليون) كيلومتر مربع، وتأتي في المركز الثالث عشر بين دول العالم من حيث المساحة، والثاني بين الدول العربية بعد الجزائر.

ولموقع المملكة العربية السعودية الجغرافي خصائص، من أبرزها:

١- وقوع المملكة العربية السعودية في الركن الجنوبي الغربي من قارة آسيا.

٢- توسطها قارات العالم الثلاث: آسيا وأوروبا وإفريقيا.

٣- كونها تُشكّل معظم أراضي شبه الجزيرة العربية، إذ تحيط بها ثمانية دول عربية.

٤- إشرافها على أكثر المعابر المائية أهمية (البحر الأحمر والخليج العربي).

٥- احتواؤها على

ثروات طبيعية

ضخمة من النفط،

والغاز، والذهب،

وغيرها.



## ١ نشاط

يتأمل الطلبة الخريطة الآتية ثم يجيبون عن السؤالين:



١- يستنتج الطلبة أبرز ثلاث إيجابيات يمكن أن تنتج عن اتساع مساحة المملكة العربية السعودية.

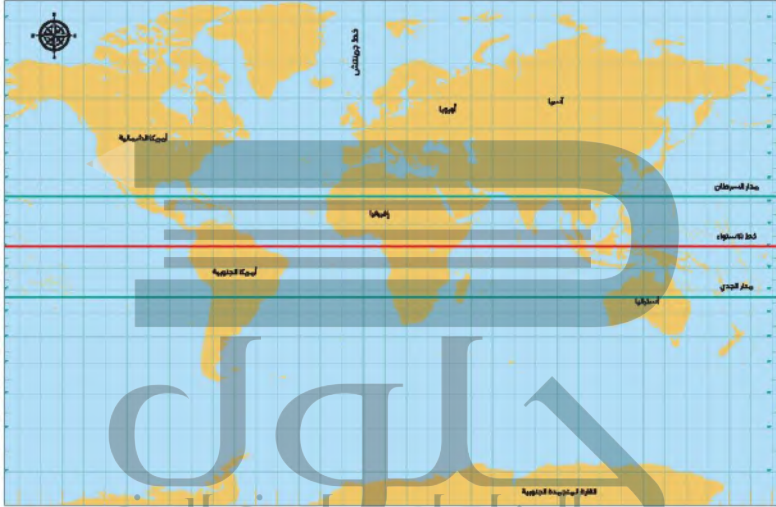
- ١- تنوع المناخ
- ٢- تنوع الثروات الطبيعية كالنفط والغاز والذهب
- ٣- تنوع الإنتاج

ب- يذكر الطلبة الدولة التي لها أطول حدود مع المملكة العربية السعودية.

اليمن



## تقويم الدرس الأول



١ يذكر الطلبة بعد الاطلاع على الخريطة ما يأتي:

أ - موقع المملكة العربية السعودية الفلكي.

تقع بين دائرتي عرض 16 17 و 32 14 درجة شمال خط الاستواء وبين خطي طول 34 35 و 55 40 شرق خط غرينتش

ب - موقع المملكة العربية السعودية الجغرافي.

تقع في أقصى الجنوب الغربي لقارة آسيا يحدها غرباً البحر الأحمر وشرقاً الخليج العربي والإمارات العربية المتحدة ومملكة البحرين ودولة قطر وشمالاً دولة الكويت وجمهورية العراق والمملكة الأردنية وجنوباً الجمهورية اليمنية وسلطنة عمان

٢ يضع الطلبة علامة (✓) أمام العبارة الصحيحة، وعلامة (x) أمام العبارة غير الصحيحة فيما يأتي:

صح

خطأ

صح

أ- تقع المملكة العربية السعودية في العروض المدارية الحارة.

ب- يمر مدار السرطان بالأطراف الشمالية من المملكة العربية السعودية.

ج- تشغل المملكة العربية السعودية نحو ثلثي مساحة شبه الجزيرة العربية.

٣ يذكر الطلبة أربع خصائص للموقع الجغرافي للمملكة العربية السعودية.

١- تقع في الركن الجنوبي الغربي من قارة آسيا

٢- تقع في قلب قارات العالم الثلاث آسيا وإفريقيا وأوروبا

٣- أنها تؤلف معظم أراضي شبه الجزيرة العربية إذ تحيط بها ثمان دول عربية

٤- تشرف على أكثر المعابر المائية أهمية البحر الأحمر - الخليج العربي

٤ ما الفرق بين الموقع الفلكي والموقع الجغرافي؟

الموقع الفلكي: هو موقع المكان بالنسبة لخطوط الطول ودوائر العرض  
الموقع الجغرافي: هو موقع المكان سواء كان قارة أو دولة أو مدينة بالنسبة  
لليابس والماء المجاور مع توضيح الحد الشمالي والحد الجنوبي والحد الشرقي  
والحد الغربي





## الدرس الثاني

## مظاهر التضاريس

تتسم المملكة العربية السعودية بتنوع طبيعتها الجغرافية من جبال، وسهول، وهضاب، ورمال، فما أبرز مظاهر تضاريسها ؟

## التضاريس

هي الأشكال السطحية التي تتكون منها القشرة الأرضية من جبال وهضاب وتلال وسهول وغيرها .  
ويتدرج سطح المملكة العربية السعودية في الارتفاع بالاتجاه نحو الغرب، ويتصف بانخفاضه عموماً .  
تتسم تضاريس المملكة العربية السعودية بالتنوع؛ لاشعاع مساحتها، ففيها الجبال والهضاب والتلال والسهول والواديان والصحاري الرملية .





والتضاريس في المملكة العربية السعودية  
تتكون مما يأتي:

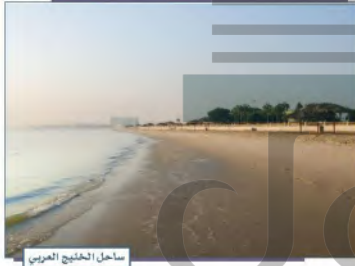
١- السهول الساحلية.

٢- المرتفعات.

٣- التكوينات الرملية (الصحاري).

٤- المجاري المائية (الأودية والشعاب).

١- السهول الساحلية:



للمملكة العربية السعودية سهلان ساحليان:

السهل الساحلي للبحر الأحمر:

يعرف باسم سهل تهامة على طول البحر

الأحمر، ويمتد من الشمال إلى الجنوب؛

حيث ينحصر بين البحر الأحمر والمرتفعات

الغربية المجاورة له، ويبلغ طول هذا السهل

بتعاريجه القليلة نحو ٢٤٠٠ كيلومتر تقريباً،

ويختلف اتساعه من مكان إلى آخر، وتقطع الأودية هذا السهل من الشرق إلى الغرب،

وبالقرب منه العديد من الجُزر الصغيرة التي من أهمها جزر فرسان.

السهل الساحلي للخليج العربي:

يمتد السهل الساحلي للخليج العربي في المملكة العربية السعودية من حدودها مع

دولة الكويت شمالاً، حتى حدودها مع دولة قطر. ثم يمتد هذا السهل مرة أخرى

لمسافة قصيرة بعد شبه جزيرة قطر، ويبلغ طول هذا السهل مع تعاريجه أكثر من

١٠٠٠ كيلومتر، ويتسم بانبساطه وقلة ارتفاعه عن مستوى سطح البحر، وتغطي الرمال

أجزاء كبيرة منه؛ ولذا يخلو من الأودية، وبالقرب منه بعض الجُزر الصغيرة التي

تغمرها المياه أحياناً.



## ٢- المرتفعات:

وتتكون من المرتفعات الآتية:


- المرتفعات الغربية.
- جبال الشمال والوسط.
- الحرات.
- الهضاب.

### المرتفعات الغربية:

المرتفعات الجبلية الغربية هي من أهم المظاهر التضاريسية في المملكة العربية السعودية، وهي تمتد بمحاذاة البحر الأحمر، وذلك من الحدود مع المملكة الأردنية الهاشمية شمالاً حتى الحدود مع الجمهورية اليمنية جنوباً بطول يصل إلى ١٥٥٠ كيلو متراً تقريباً. ويراوح عرضها بين بضعة كيلومترات و ١٤٠ كيلومتراً. وهي إجمالاً أكثر ارتفاعاً في الجنوب والوسط منها في الشمال. وفيها عدد من القمم الجبلية العالية التي يتجاوز ارتفاعها ٣٠٠٠ م فوق مستوى سطح البحر. كما هو حال جبال السُّودّة جنوب غرب المملكة العربية السعودية بالقرب من مدينة أبها، وتتحدّر هذه المرتفعات انحداراً عمودياً وفجائياً نحو البحر الأحمر، وتدرّجياً نحو الشرق.

تنقسم المرتفعات في غرب المملكة العربية السعودية إلى ثلاثة أقسام





خشم القتيبة في جبال طويق غرب الرياض

### جبال الشمال والوسط:

توجد في وسط المملكة العربية السعودية وشمالها بعض الجبال، مثل جبال طويق وجبل العرّض، ونهّلان، والدُّحُول، وصَبْحَا في منطقة الرياض، وجبل شَعْبَاء، وسَوَاج في منطقة القصيم، وجبال أجا وسَلَمَى في منطقة حائل، وجبل طُوقَة، ولبلى والجَصَّان في منطقة الجوف.

### ١ نشاط

يُسَمَّى الطلبة مدينتين تقعان على المرتفعات الغربية ويحددون موقعهما بالاستعانة ببرنامج (جوجل إيرث).

اسم المدينة

اسم المدينة

أبهاء على خط الطول 30 40 شرق غرينتش و 13 18 شمال خط الاستواء

ينبع على خط الطول 12 38 شرق غرينتش و 20 24 شمال خط الاستواء



جبل مار البركاني في بَاحَل

### الْحَرَّات:

وهي طُفُوحٌ بازِلْتِيَّةٌ تكونت من حُمَم الصَّخُور البركانية المنصهرة التي تدفقت من باطن الأرض إلى سطحها من خلال فوهات بركانية نتيجة أنشطة حركية وزلزالية.

تشغل الحَرَّات مناطق واسعة إلى الشرق من المرتفعات الغربية، وتعد حرة رُهاط أكبر حرات المملكة مساحة، وأهم حَرَّات وطني: حَرَّة الحَرَّة، والرَّحَا، وخَيْبَر، وكُثَّاب.



## نشاط ٢

بماذا تتميز الحَرَات في وطني؟

تتميز الحرات في وطني بأنها تشغل مساحات واسعة إلى الشرق من المرتفعات الغربية



## الهضاب:

تتفاوت الهضاب من حيث الارتفاع، وتقطع هذه الهضاب مئات الأودية الجافة.

### ١- الهضاب الغربية

تمتد الهضاب الغربية إلى الشرق من المرتفعات الغربية، وتتكون من الهضاب الآتية:

هَضْبَةُ جِسْمَى --- هضبة الحِجَاز --- هضبة عَسِير --- هضبة نجران

### ٢- نجد

هضبة نَجْد أكبر هضاب وطني، وهي تقع في الوسط، ويقطع سطحها عدد كبير من الأودية ومسارب المياه، وتقسم إلى قسمين، هما:

هضبة عالية نجد --- هضبة نجد السفلى

### ٣- الحماد والحجرة


تمتد هضبتا الحماد والحجرة في أقصى شمال المملكة، وتقطع سطح هاتين الهضبتين الأودية ومسارب المياه.

### ٤- الضمان

تمتد هضبة الضمان في شمال شرق المملكة، ويقطع سطح الهضبة عدد من الشعاب والأودية

### ٥- الوديان

تقع هضبة الوديان في أقصى شمال شرق المملكة، وتخترقها مجموعة أودية، مثل: وادي غزير، ووادي جامر



هضبة نجران



جانب من هضبة نجد



### ٣- التكوينات الرملية (الصحاري):

التكوينات الرملية في وطني المملكة العربية السعودية قسمان:  
❶ التكوينات الرملية الرئيسية. ❷ التكوينات الرملية الفرعية.

#### التكوينات الرملية الرئيسية:

يشغل مساحة واسعة في جنوب شرق وطني المملكة العربية السعودية

#### ١- الربع الخالي

يقع في الشمال، ويمثل بذلك المرتبة الثانية من حيث المساحة بين التكوينات الرملية في المملكة بعد الربع الخالي

#### ٢- النفوذ الكبير

تمتد الذَّهْناء على شكل قوس في الجهة الشمالية والشرقية من وطني المملكة العربية السعودية

#### ٣- الذَّهْناء

تقع في المنطقة الشرقية من وطني المملكة العربية السعودية

#### ٤- الجافورة



صحراء الربع الخالي



صحراء النفوذ الكبير



صحراء الذَّهْناء



ظهور التويرات بالزلفي

### التكوينات الرملية الفرعية

توجد في وطني المملكة العربية السعودية تكوينات رملية صغيرة في وسطها، أو حول ضفاف الأودية الكبرى. وعلى السهول الساحلية، مثل: نفود السر في منطقتي الرياض والقصيم، ونفود التويرات في الزلفي.

### ٣ نشاط

هل يمكن استغلال الصحاري في وطني لتكون عامل جذب سياحي؟ وكيف يكون ذلك؟



من خلال تنفيذ عدد من المنتجعات السياحية والحدائق والمحميات الصحراوية التي تضم حيوانات المنطقة بالإضافة إلى تنظيم رحلات سفاري للاستمتاع بالصحراء

تنتشر على سطح أرض المملكة العربي

وَوَادِي السَّهْبَاءِ، وَوَادِي تَثْلِيثٍ.



## تقويم الدرس الثاني



١ يذكر الطلبة ثلاثة من أشهر الأودية في المملكة العربية السعودية.

وادي السهباء

وادي الدواسر

وادي الجدير

٢ يذكر الطلبة الأشكال التضاريسية في وطني المملكة العربية السعودية بالتدرج من الغرب إلى الشرق.

السهول الساحلية - المرتفعات - الحرات - الهضاب -  
التكوينات الرملية - المجاري المائية

٣ يستنتج الطلبة أثر تنوع التضاريس في تنوع المناخ في وطني المملكة العربية السعودية، وأثر ذلك في الاقتصاد الوطني.

أدى تنوع التضاريس في المملكة إلى تنوع المناخ حيث نلاحظ وجود الكثير من الأقاليم المناخية في المملكة مما أدى إلى تنوع الموارد الطبيعية التي ساهمت في تقوية الاقتصاد

٤ يستنتج الطلبة أساليب استثمار الحرات والهضاب والأودية في وطني المملكة العربية السعودية في خدمة الاقتصاد الوطني.

تحتوي الحرات العديد من الثروات المعدنية والصخور والمواد الخام التي تدخل في الصناعة وتسهم في تقدم الاقتصاد الوطني

٥ يضع الطلبة علامة (✓) أمام العبارة الصحيحة، وعلامة (x) أمام العبارة غير الصحيحة فيما يأتي:

- أ- تقل المجاري المائية الموسمية في الجزء الجنوبي من المنطقة الشرقية. **صح**
- ب- تقع صحراء الدهناء في الجزء الجنوبي الشرقي من المملكة العربية السعودية. **خطأ**
- ج- يُعرف السهل الساحلي للبحر الأحمر باسم سهل الدهناء. **خطأ**
- د- هضبة حِسْمَى من هضاب وسط المملكة العربية السعودية. **خطأ**

٦ لماذا تضيق مساحة السهول الساحلية في غرب وطني المملكة العربية السعودية وتتسع في شرقها؟

بسبب وجود المرتفعات الجبلية وجبال الحجاز في غرب المملكة بينما لا توجد مرتفعات جبلية في شرقها

٧ يستنتج الطلبة أهمية إطلال المملكة العربية السعودية على ساحلين بحريين (البحر الأحمر والخليج العربي) مقارنة ببعض الدول التي لا تطل إلا على ساحل واحد.

إن إطلالة المملكة على ساحلين بحريين أعطى المملكة قوة استراتيجية في المنطقة بالإضافة إلى الأهمية الاقتصادية للساحلين البحريين





## الدرس الثالث

## المناخ

يتنوع المناخ في وطني المملكة العربية السعودية نتيجة لتنوع تضاريسه، فما أبرز خصائص مناخ وطني؟

## المناخ

يختلف المناخ في وطني المملكة العربية السعودية من منطقة لأخرى؛ لاختلاف التضاريس، وذلك على النحو الآتي:

المرتفعات الغربية والجنوبية الغربية	معتدل (شبه جاف)	الربع الخالي	حار جداً صيفاً وبارد شتاءً (شديد الجفاف)
المناطق الوسطى	حار صيفاً وبارد شتاءً (جاف)	السواحل	حار صيفاً معتدل شتاءً (ترتفع فيها الرطوبة)
المناطق الشمالية	حار صيفاً وبارد شتاءً (جاف)		



تقع أجزاء واسعة من المملكة العربية السعودية ضمن الحزام الصحراوي المداري الذي يمتد من المحيط الأطلسي غرباً حتى صحراء (ثار) في الهند شرقاً، ويمر مدار السرطان في منتصف أراضيها تقريباً.



## العوامل المؤثرة في المناخ

● الموقع الفلكي. ● الموقع الجغرافي.

### الموقع الفلكي:

- وهو يؤثر في وطني المملكة العربية السعودية من ناحيتين:
- ١- وقوعها ضمن الإقليم الصحراوي المداري الجاف؛ وهو ما جعلها في مواجهة الرياح التجارية الجافة شتاءً، والرياح القاريّة الجافة صيفاً؛ لذا يتسم مناخ المملكة بالجفاف على مدار السنة.
  - ٢- تعامد الشمس على مدار السرطان الذي يمر بأرض المملكة باتجاه شرقيّ غربيّ يقسمها إلى نصفين تقريباً.

### نشاط ١

لماذا يسود المناخ الصحراوي في معظم أجزاء وطني المملكة العربية السعودية؟

..... بسبب وقوع المملكة ضمن الإقليم الصحراوي المداري الجاف ذو المناخ الصحراوي .....  
الموقع

- وهو يؤثر في وطني المملكة العربية السعودية من النواحي الآتية:
- ١- اتساع مساحة وطني وخلوه من المسطحات المائية، مثل: الأنهار والبحيرات؛ فساعد ذلك على سيادة الجفاف في معظم أجزائه.
  - ٢- اقتصار تأثير الخليج العربي والبحر الأحمر على السواحل المجاورة لهما؛ لصغر مسطحهما المائي.
  - ٣- امتداد المرتفعات الغربية والصحاري الرملية الضخمة أدى إلى منع المؤثرات المناخية من التوغل إلى داخلها.

- ٤- انخفاض درجات الحرارة على المرتفعات الجبلية في غرب المملكة نتيجة لارتفاع.  
٥- ارتفاع معدلات درجات الحرارة نسبياً على طول الساحل الجنوبي الغربي من المملكة؛ لانخفاض سطحه ووقوعه بمحاذاة البحر الأحمر، وهبوب الرياح الموسمية الجنوبية الغربية الدافئة عليه أحياناً.



جبال فيفاء بجازان

٢

## نشاط

يعلل الطلبة انتشار الغطاء النباتي الأخضر في جبال فيفاء بجازان.

نظراً لقربها من البحر وتساقط الأمطار عليها

## الأمطار

تهطل الأمطار في المملكة العربية السعودية بقلّة ما عدا جنوبها الغربي، ويسقط معظمها في فصل الشتاء وأوائل الربيع وأواخر الخريف، أما في الجنوب الغربي من المملكة فتسقط الأمطار في جميع فصول السنة تقريباً، وهي تتباين في مقدارها من فصل إلى آخر.



## تقويم الدرس الثالث



١ كيف يؤثر الموقع الفلكي في مناخ وطني المملكة العربية السعودية؟

1. وقوعها ضمن الإقليم الصحراوي المداري الجاف، وهو ما جعلها في مواجهة الرياح التجارية الجافة شتاءً، والرياح القارئة الجافة صيفاً؛ لذا يتسم مناخ المملكة بالجفاف على مدار السنة.
2. تعامد الشمس على مدار السرطان الذي يمر بأرض المملكة باتجاه شرقي غربي يقسمها إلى نصفين تقريباً.

٢ يحدد الطلبة أسباب اختلاف المناخ في المملكة العربية السعودية ويذكرون بعض الأمثلة.

يختلف المناخ في وطني المملكة العربية السعودية من منطقة لأخرى؛ لاختلاف التضاريس مثال: المرتفعات الغربية والجنوبية الغربية؛ معتدل (شبه جاف) - الربع الخالي: حار جداً صيفاً وبارد شتاءً (شديد الجفاف)

٣ كيف يؤثر الموقع الجغرافي في مناخ وطني المملكة العربية السعودية؟

1. اتساع مساحة وطني وحلوه من المسطحات المائية، مثل: الأنهار والبحيرات فساعد ذلك على سيادة الجفاف في معظم أجزائه.
2. اقتصر تأثير الخليج العربي والبحر الأحمر على السواحل المجاورة لهما؛ لصغر مسطحها المائي.
- 3- امتداد المرتفعات الغربية والصحاري الرملية الضخمة أدى إلى منع المؤثرات المناخية من التوغل إلى داخلها.
- 4- انخفاض درجات الحرارة على المرتفعات الجبلية في غرب المملكة نتيجة للارتفاع.
- 5- ارتفاع معدلات درجات الحرارة نسبياً على طول الساحل الجنوبي الغربي من المملكة، لانخفاض سطحه ووقوعه بمحاذاة البحر الأحمر، وهبوب الرياح الموسمية الجنوبية الغربية الدافئة عليه أحياناً.

٤ يدرج الطلبة حانه المناخ في المناطق الغربية في المملكة العربية السعودية.

المرتفعات الغربية والجنوبية الغربية؛ معتدل (شبه جاف)



## الدرس الرابع

### توزيع السَّكَّان

يتوزع السَّكَّان في المملكة العربية السعودية في عدد من المناطق؛ لاتساع مساحتها، ويقوم هذا التوزيع على خصائص طبيعية واقتصادية، فما أبرز خصائص توزيع السكان في المملكة العربية السعودية؟

#### السَّكَّان

مجموعة من البشر المستقرين في مكان محدّد، وزمن معيّن، ويقوم علم السكان على دراسة العلاقة بين السكان وبيئتهم والعوامل المؤثرة فيهم.

#### العوامل المؤثرة في توزيع السكان

تختلف عوامل توزيع السكان في المملكة العربية السعودية من منطقة إلى أخرى، ويتوزع السكان فيها توزّعاً متفاوتاً على مساحة إجمالية تبلغ مليوني كيلومتر مربع، ويتأثر هذا التوزيع بعوامل مختلفة طبيعية واقتصادية وإدارية تتبين فيما يأتي:

##### أ- المناطق الساحلية

تطل المملكة على ساحلين، هما الخليج العربي والبحر الأحمر، وهما من أهم الممرات المائية في العالم. ولهذا قَامَتْ في بعض مَينَهما معظم النشاطات الاقتصادية وما يخدم هذه الأنشطة، مثل: خدمة زوّار الحرمين الشريفين، والخدمات التعليمية والصحية، وهذا ما يجعلها من أكثر المناطق في وطني كثافةً، ولا سيما المدن الكبرى، مثل: جدة، وينبع، ورايغ، والدمام، والجبيل.

وتتوافر في بعض المناطق الساحلية التربة الخصبة، والمياه الوفيرة كما هو الحال في الأحساء، وتتركز التجمعات السكانية أيضاً في المدن ذات الثروة السَّمَكِيّة، مثل: جدة، والقُطيف، وجازان.



### ب- المناطق الجبلية

يقبل عدد السكان في المناطق الجبلية الشاهقة والوَعْرَة، ويزيد في المناطق التي هي أقل ارتفاعاً ذات الطبيعة التضاريسية المنبسطة، مثل: الطائف، والباحة، وأبها، حيث اعتدال الطقس وزيادة الأمطار.

### ج- المناطق الداخلية

مع حدة المناخ الصحراوي (بارد شتاءً، حار صيفاً) في المناطق الداخلية يتركز السكان في تلك المناطق، ويتفاوت تركزهم حسب عوامل الجذب، فالرياض تجذب السكان لكونها العاصمة، وفيها المركز المالي والإداري، وتتوافر فيها كثير من الشركات والصناعات. والتصميم تستقطب السكان لكونها ذات أرض زراعية خصبة.

ووفق تقديرات إحصاء عام ١٤٣٨هـ، تبين من توزيع السكان في المملكة العربية السعودية تركيز أكثر من نصفهم في ثلاث مناطق، هي: منطقة مكة المكرمة، ومنطقة الرياض، والمنطقة الشرقية،

بنسبة (٦٥,٥٪)

من سكان المملكة العربية السعودية.

وتبذل حكومة المملكة

كثيراً من الجهود

لترابط بين المناطق؛

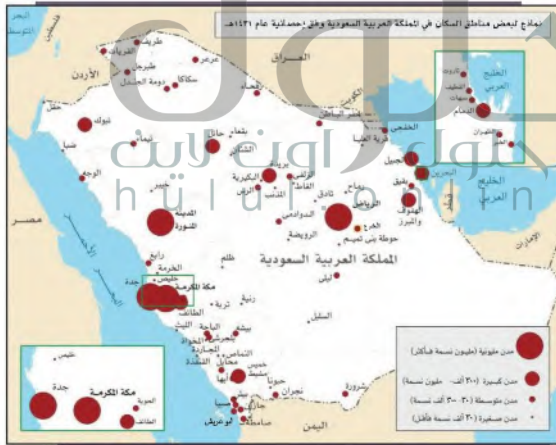
فشقت الطرق، وأقامت

الجسور، وسيّرت

الخدمات؛ من أجل

تسهيل إقامة السكان

في جميع مدنها.





## الكثافة السكانية

الكثافة السكانية: هي وسيلة لقياس توزيع السكان في الإقليم أو المنطقة أو الدولة، ويقصد بها نسبة السكان إلى المساحة.

وتتفاوت الكثافة السكانية من منطقة إلى أخرى، فالمناطق الصحراوية والوَعْرَة والقليلة المياه تقل فيها الكثافة السكانية، وتزداد في المناطق التي تتوافر فيها أسباب الحياة ومقوماتها، مثل: المدن الكبرى والواحات. ويمكن حساب الكثافة السكانية على النحو الآتي:

مجموع السكان

الكثافة السكانية

المساحة

ويتضح من النتيجة عدد السكان الذين يعيشون في الكيلومتر المربع.

### مثال للتطبيق

ازدادت الكثافة السكانية في المملكة العربية السعودية لزيادة السَّكان، إذ بلغت عام ١٣٩٤هـ شخصين في الكيلومتر المربع، وفي عام ١٤١٣هـ بلغت ٩ أشخاص، وفي عام ١٤٢٥هـ بلغت نحو ١١,٣ شخصاً. ولمعرفة الكثافة السكانية للمملكة العربية السعودية حسب تقديرات إحصاء عام ١٤٢٨هـ تُجرى العملية الحسابية الآتية:

$$\text{عدد السكان} = \frac{32,052,336}{16,3} = 1,964,554$$

إذن الكثافة السكانية (١٦,٣) شخصاً للكيلومتر المربع. وتتفاوت الكثافة السكانية من منطقة إلى أخرى لاختلاف المساحات وأعداد السكان؛ فمثلاً نجد أن الكثافة السكانية في منطقة جازان ٩١ شخصاً في الكيلومتر المربع، وفي المنطقة الشرقية ٦ أشخاص، وذلك لاتساع مساحة المنطقة الشرقية.



## « توزيع السكان حسب أنماط استقرارهم

يقصد بأنماط الاستقرار طريقة الحياة التي يعيشها السكان، ومكان سكنهم، ويمكن تقسيمهم إلى نمطين في المملكة العربية السعودية، هما:

### أنماط السكان

#### سكان القرى (الريف)

- يعملون بالوظائف والزراعة، والصيد البحري في القرى الساحلية.
- يهاجر كثير منهم إلى المدن.

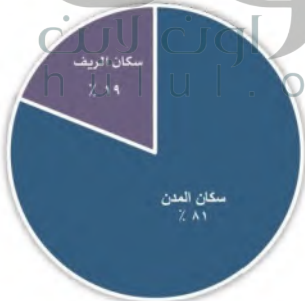
#### سكان المدن

- يعملون بالوظائف ومختلف الأنشطة الاقتصادية.
- عدد السكان يزداد بسبب الهجرة إليها من القرى والمراكز.
- يشكلون النسبة الكبرى من سكان المملكة العربية السعودية حالياً.

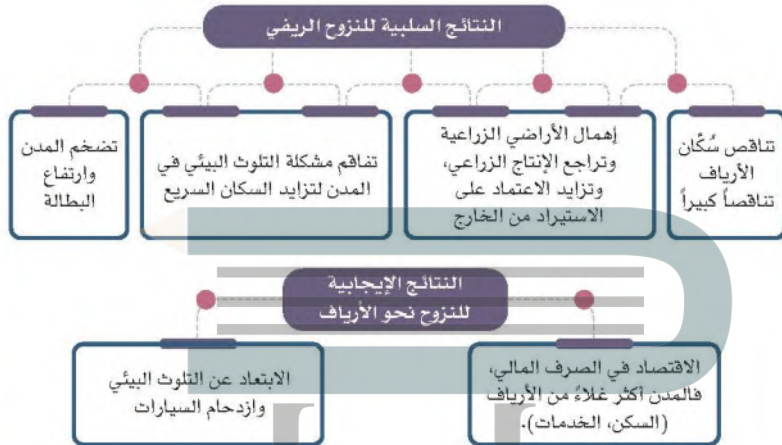
### نشاط ١

يستخرج الطلبة من موقع الهيئة العامة للإحصاء عدد سكان ثلاث مدن في منطقتهم، ثم يبينون سبب جذب السكان إليها.

رابط ملف الإحصائيات سوف نضعه أسفل المستعرض، الملف للاطلاع عليه أنزل أسفل المستعرض



توزيع السكان في المملكة العربية السعودية



## نشاط ٢

١- يحسب الطلبة الكثافة السكانية لمنطقة الرياض التي بلغ عدد سكانها عام ١٤٣٨هـ ٨,٢١٦,٢٨٤ نسمة، ومساحتها ٣٨٠,٠٠٠ كم٢.

**الكثافة السكانية: عدد السكان ÷ المساحة = 8216284 ÷ 380000 = 21.62 نسمة / كم مربع**

ب- يستنتج الطلبة السبب الرئيس الذي أدى إلى توسع مدينتي الرياض ومكة المكرمة.

**بسبب توفر فرص العمل والمناخ الملائم والهجرة الداخلية**

## تقويم الدرس الرابع



الجاهل أون لاين  
h ü l u l . o n l i n e

١ يحدد الطلبة على الخريطة ما يأتي:

أ- أكثر ثلاث مناطق تتميز بكثافة سكانية عالية. مكة المكرمة - الرياض - الشرقية

ب- أقل ثلاث مناطق من حيث الكثافة السكانية. الجوف - الباحة - الحدود الشمالية

٢ يذكر الطلبة أسباب تفاوت الكثافة السكانية بين مناطق المملكة العربية السعودية.

تبعاً للمناخ الملائم للعيش وتوفر فرص العمل في كل منطقة

٣ يصنف الطلبة إيجابيات المدن والقرى وسلبياتها ذات العلاقة بالسكان في الجدول الآتي:

التضخم السكاني، كثرة المصانع، التلوث، توافر الوظائف، البطالة، ارتفاع أسعار السكن والخدمات، ازدحام السيارات، وجود مستشفيات كبيرة، الألفة بين السكان، انخفاض أسعار السكن والخدمات.

القرى	المدن	
<p>.....</p> <p>انخفاض أسعار السكن</p> <p>الألفة بين السكان</p> <p>.....</p>	<p>كثرة البضائع</p> <p>توافر الوظائف</p> <p>وجود مستشفيات كبيرة</p>	الإيجابيات
<p>.....</p> <p>البطالة</p> <p>.....</p> <p>.....</p>	<p>التضخم السكاني</p> <p>التلوث</p> <p>ارتفاع أسعار السكن والخدمات</p> <p>ازدحام السيارات</p>	السلبيات

٤ ما أبرز العوامل المؤثرة في توزيع سكان المملكة العربية السعودية؟

المناطق الساحلية – المناطق الجبلية – المناطق الداخلية

٥ يستنتج الطلبة أبرز عوامل جذب السكان التي تتميز بها المدن.

توفر الخدمات  
توفر الرعاية الصحية  
توفر فرص العمل

٦ ما أكثر المناطق الإدارية سكاناً في المملكة العربية السعودية؟

مكة المكرمة – الرياض – الشرقية

الجلول اون لاين  
hulul.online





## الدرس الخامس

### تركيبة السَّكَّان

**١٤** تعتمد دراسة السكان التي ترمي إلى دعم التنمية على نوع السكان وأعمالهم، فما خصائص تركيبة السكان في المملكة العربية السعودية؟

#### أقسام التركيب السَّكَّاني

جعل الله للإنسان مراحل عمرية مختلفة، هي: الطفولة، ثم الشباب، ثم الشيخوخة. وجعل لكل مرحلة خصائصها، قال تعالى: ﴿هُوَ الَّذِي خَلَقَكُمْ مِنْ نَفْسٍ وَاحِدَةٍ ثُمَّ يَرْجِعْكُمْ إِلَىٰ طِينٍ فَلَا تَعْلَمُونَ أَشْتَكُمُ ثُمَّ لَنُكُونُوا شُيُوخًا وَمِنْكُمْ مَنْ يَبُوءُ مِنْ قَبْلِ وَلِنُفُوًا أَجَلًا مُّسَمًّى وَلَعَلَّكُمْ تَعْلَمُونَ﴾ [غافر: ١٧].

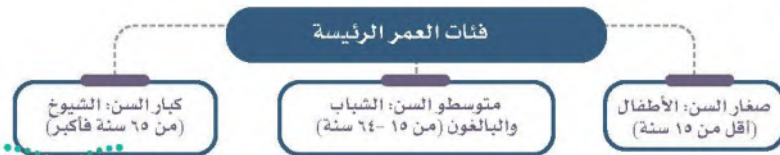
تعد دراسة التركيب السَّكَّاني مفتاحاً لمعرفة خصائص المجتمع، ولفهم كثير من المشكلات الاقتصادية والاجتماعية. وأشهر أقسام التراكيب السكانية قسمان، هما:

#### ١- التركيب العُمري:

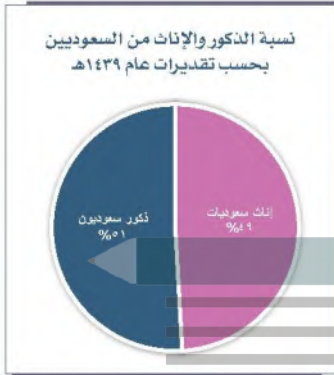
ويُقصد به تقسيم السَّكَّان إلى فئات وفق أعمارهم، وبيان نسبة كل فئة عُمريّة إلى إجمالي عدد السكان.

يحظى التركيب العمري بأهمية خاصة لدى المخطّطين ومتخذي القرار؛ لكونه يعطي صورة واضحة عن فئات أعمار السكان، وتحديد نوع الخدمات المقدمة للفئات العمرية المختلفة، ويساعد على معرفة الفئة العمرية المنتجة التي يعتمد عليها في رعاية بقية الفئات والعناية بهم.

ويمكن أن نميّز بين ثلاث فئات رئيسة للأعمار:







## ٢- التركيب النوعي:

هو تقسيم السكان إلى ذكور وإناث، وتحديد نسبة كل منهما إلى إجمالي عدد السكان. ولدراسة التركيب النوعي أهمية كبرى في معرفة بناء المجتمع، والنسبة بين الذكور والإناث؛ حيث إنها تساعد على التخطيط والتنمية.

### نشاط ١

تسعى رؤية المملكة ٢٠٣٠ إلى زيادة مشاركة المرأة في سوق العمل ورفعها من نسبة (٢٢٪) إلى نسبة (٣٠٪)، وهذا يكون بتمكين المرأة السعودية من التعليم والعمل، وجعلها قوة عاملة مؤثرة.

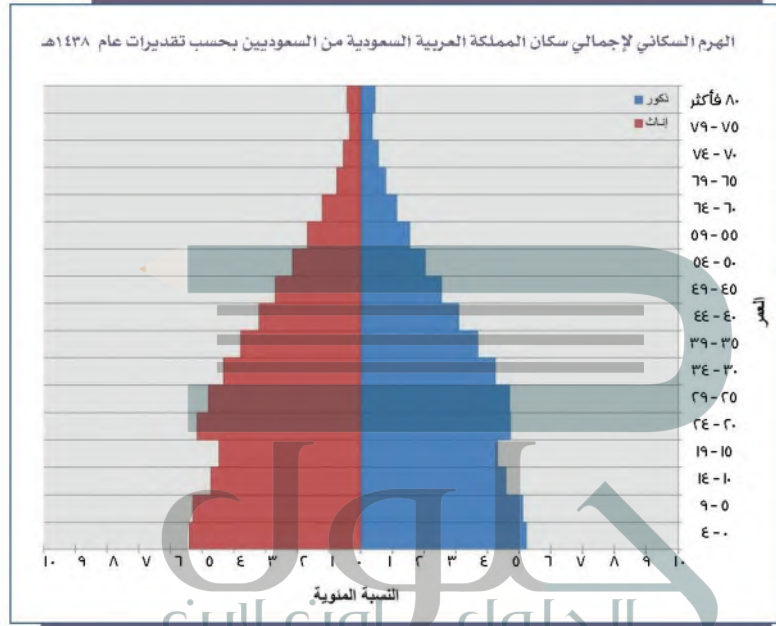
يكتب الطلبة عن دور المرأة السعودية الوطني في حدود سطرين.

**المرأة السعودية تسهم في رفد شتى مجالات الحياة الاقتصادية والوظائف الحكومية وهي عنصر أساسي تشكل نصف المجتمع وتنجز نصفه الآخر**

## «الهَرَمُ السُّكَّاني»

هو شكل بياني يساعد على فهم تركيب السكان النُّوعي والعُمُري، ونسبة كل منهما إلى الآخر، والتعرُّف على خصائصهم من حيث العمر والجنس والعدد لكل فئة عمرية.

يدل الهرم السكاني لإجمالي سكان المملكة العربية السعودية وفق العمر على أن نسبة كثير من سكانها تنتمي إلى الفئة العمرية التي لا تتعدى أعمار أفرادها ٣٥ سنة، ثم تبدأ النسبة بالانخفاض كلما زاد العمر.



## نشاط ٢

يعلل الطلبة ما يأتي:

أ- قاعدة الهرم (الفئة العمرية من صفر إلى ٤ سنوات) عريضة.

بسبب زيادة النمو السكاني والذي يرجع إلى تقدم الرعاية الصحية

ب- النقص في قمة الهرم.

بسبب صغر نسبة هذه الفئات العمرية ويعود ذلك إلى أن المجتمع السعودي هو مجتمع فني

من فوائد الهرم السكاني التعرف على:

- ❖ نِسَب الذكور.
- ❖ نِسَب الإناث.
- ❖ نِسَب أعمار السكان وأعداد كل فئة عمرية.
- ❖ نِسَب الفئة العمرية المنتجة.
- ❖ معرفة هل المجتمع فَتِيّ أو هَرَم؟ إذ إن الهَرَم ذا القاعدة العريضة والجوانب المنحدرة والقمة المدببة يدل على أن المجتمع فَتِيّ، والعكس يدل على شيخوخة المجتمع.

### نشاط ٣

من خلال مفتاح الخريطة، يسجل الطلبة أكبر أربع مناطق إدارية من حيث نسبة السُّكَّان غير السعوديين على مستوى المملكة العربية السعودية.

الرياض - مكة المكرمة - الشرقية - عسير



## تقويم الدرس الخامس



١ ما أبرز فوائد التعرف على التركيب النوعي للسكان؟

١- معرفة بناء المجتمع والنسبة بين الذكور والإناث

٢- يساعد على التخطيط والتنمية

٢ يكمل الطلبة الفراغات الآتية بما يناسبها:

الهَرَم السكاني هو شكل ..... بياني يساعد على فهم

تركيب السكان ..... الذكور ..... الإناث ونسبة كل منهما إلى الآخر.

٣ ما التركيب النوعي للسكان؟

هو تقسيم السكان إلى ذكور وإناث وتحديد نسبة كل منهما إلى إجمالي عدد السكان

٤ ما أبرز فوائد الهرم السكاني؟

١- نسبة الذكور

٢- نسبة الإناث





## الدرس السادس

## عدد السُّكَّان

تقوم التنمية في أي وطن على معرفة أعداد السُّكَّان، فما التعداد السُّكَّاني؟ وما أهميته؟

## تُعَدَاد السُّكَّان

هو قيام جهة رسمية في زمن محدد بالجمع الميداني للمعلومات عن السكان الذين على قيد الحياة في الدولة، وتحليلها اقتصادياً واجتماعياً وسُكَّانياً، واستعمالها لخدمة التنمية.

تُجرى الدولة التَّعْدَاد السُّكَّانِي الشَّامِل كُلِّ عَشْر سنوات تقريباً، وتتفَّذه هيئة متخصصة مستعينة بالفِرْق الميدانية والبرامج التقنية المدعمة بحقول البيانات المطلوبة.

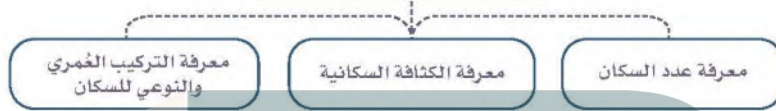




## نتائج التَّعداد:

من أبرز نتائج التَّعداد السُّكَّاني ما يأتي:

### من نتائج التعداد السكاني



### أهمية التَّعداد:

يعد التعداد السُّكَّاني عاملاً مهماً؛ لأثره في حياة الإنسان الاجتماعية والاقتصادية والجغرافية، ولأهميته تبذل الدول مبالغَ وجهوداً كبيرة للحصول على بيانات سكانية دقيقة، تتيح لها فهم المجتمع وحل مشكلاته، والتخطيط لتطويره وتنميته.

وتُولي المملكة العربية السعودية التعداد السكاني اهتماماً خاصاً، إذ يمثل أحد أهم أولوياتها، وقد برز بصورة واضحة في تعداد السكان والمساكن كل عشر سنوات، وكان آخرها التعداد لعام ١٤٤١هـ.

بعد إعلان توحيد المملكة العربية السعودية عام ١٣٥١هـ على يد المؤسس الملك عبدالعزيز قُدِّر عدد السكان في ذلك الوقت بنحو مليونين تقريباً، ومنذ ذلك الوقت ووطني المملكة العربية السعودية في تطور مستمر، أدى إلى نمو كبير في عدد السكان. وكان أول تعداد للسكان في المملكة العربية السعودية في عام ١٣٩٤هـ.

وقد بلغ تقدير عدد سكان المملكة العربية السعودية عام ١٤٣٩هـ نحو (٣٣, ٤١٣, ٦٦٠) نسمة.

## ١ نشاط

يذكر الطلبة أبرز فوائد التعداد السُّكَّاني.

لأثره في حياة الإنسان الاقتصادية والاجتماعية والجغرافية حيث تتيح فهم المجتمع وحل مشكلاته والتخطيط لتطويره وتنميته

## نقطة للاطلاع

تتولى الهيئة العامة للإحصاء في وطنس المملكة العربية السعودية أعمالاً تصماء السكان وتحليل النتائج وفهرما.



الهيئة العامة للإحصاء  
General Authority for Statistics



www.stats.gov.sa

- الإحصاءات السكانية هي مفتاح التنمية والتخطيط، ومن فوائدھا:
- ١- معرفة مناطق تركّز السكان.
  - ٢- معرفة نسبة النمو، والكثافة السكانية.
  - ٣- معرفة حجم القوى المنتجة، وأقسام التركيب السكاني.
  - ٤- الاستفادة من التعداد في رسم خطط التنمية، مثل: التعليم والصحة والخدمات العامة.
  - ٥- إنشاء قاعدة بيانات للدراسات والبحوث.
  - ٦- التعرف على كثير من القضايا الاجتماعية مثل: البطالة والطلاق.

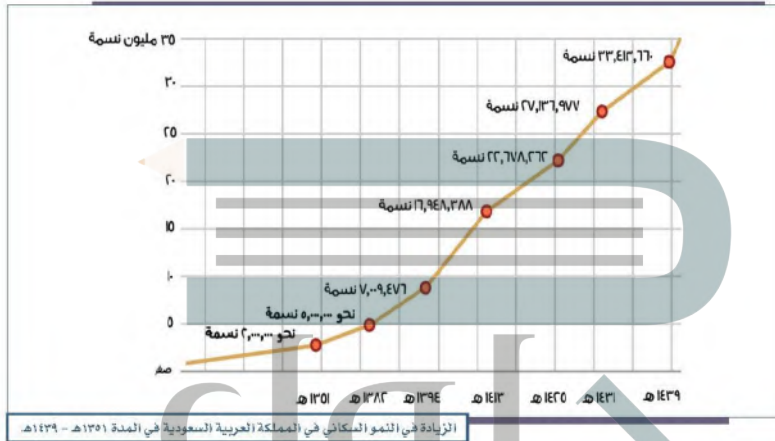
## تعداد السكان في المملكة العربية السعودية

### سنوات التعداد ونوعه وأعداد سكان المملكة العربية السعودية

العام	نوع التعداد	عدد السكان
١٣٥١هـ	تقديري	٢,٠٠٠,٠٠٠ نسمة تقريباً
١٣٨٢هـ	تقديري	٥,٠٠٠,٠٠٠ نسمة تقريباً
١٣٩٤هـ	التعداد الأول	٧,٠٠٩,٤٧٦ نسمة
١٤١٣هـ	التعداد الثاني	١٦,٩٤٨,٣٨٨ نسمة
١٤٢٥هـ	التعداد الثالث	٢٢,٦٧٨,٢٢٢ نسمة
١٤٣١هـ	التعداد الرابع	٢٧,١٣٦,٩٧٧ نسمة
١٤٣٩هـ	تقديري	٣٣,٤١٣,٦٦٠ نسمة تقريباً

يتضح من الجدول أن عدد سكان المملكة العربية السعودية ينمو باستمرار بسبب الزيادة الطبيعية، وتطور الأوضاع المعيشية والتنموية، وزيادة الأيدي العاملة الوافدة، وهذه الزيادة تصاحبها خطط التنمية والنمو الاقتصادي المتتابع.

## نشاط ٢



بالاطلاع على الشكل يجيب الطلبة عن الأسئلة الآتية:

أ- يستنتج الطلبة الاتجاه العام لتطور عدد السكان في وطني المملكة العربية السعودية.

**تطور ونمو سكاني كبير.**

ب- في رأيك كيف يُسهم تعداد السكان في تلبية احتياجات الناس؟

**عندما تكون غالبية السكان من الفئة الفتية التي تساهم في نمو الناتج القومي**

ج- يحدد الطلبة أكبر قفزة عديدة أحصيت لسكان وطني المملكة العربية السعودية، مستنتجين أسباب ذلك.

**من 7 مليون نسمة إلى 16 مليون نسمة  
ويرجع ذلك إلى ارتفاع مستوى المعيشة والتقدم الطبي والرعاية الصحية**

### ترتيب المملكة العربية السعودية من حيث عدد السكان حسب تقديرات عام ١٤٣٩هـ



### «عوامل نمو السكان»

كان نمو سكان وطني في الماضي بطيئاً؛ لقلة الموارد، والهجرة إلى الخارج، وكثرة الأمراض والحروب. وتحسن الأوضاع المعيشية والصحية والأمنية بعد توحيد وطني المملكة العربية السعودية حصل نمو كبير في أعداد السكان، وقد بلغت نسبة النمو السكاني في وطني لعام ١٤٣٩هـ متوسط نمو سنوي مُعدَّل (٢,٥٢٪).

ويرتبط نمو السكان في المملكة العربية السعودية بعاملين أساسيين، هما:  
١- الزيادة الطبيعية:

هي الفرق بين عدد المواليد والوَفَيَات في مدة زمنية محددة، وتحسب عادة لكل ألف من السكان. ومعدل الزيادة الطبيعية في المملكة العربية السعودية منذ عام ١٤٣٩هـ لكل ألف نسمة من السكان هو ٢٥ نسمة في السنة.

٢- الزيادة غير الطبيعية:

احتاجت المملكة العربية السعودية إلى عدد كبير من المهنيين والفنيين وعمال الخدمات؛ لمواكبة خطط التنمية في العقود الماضية من جهة، ولتلبية احتياجات الأسر السعودية في جوانب الخدمة الخاصة بها من جهة أخرى، وهو مما أدى إلى توافد الأيدي العاملة فزاد عدد السكان، ولا تعد هذه الأيدي العاملة الوافدة جزءاً دائماً في حجم عدد السكان لأنها غير مستقرة، وتعود إلى بلادها بعد انتهاء الحاجة إليها.

### نشاط ٣

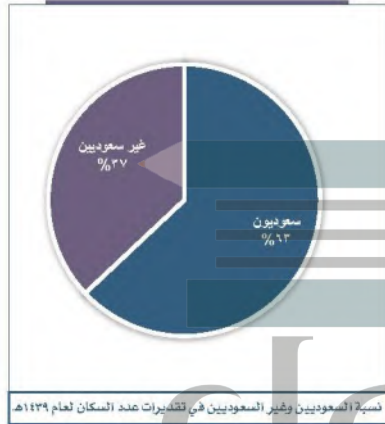
حرصت رؤية المملكة ٢٠٣٠ على  
توطين المِهْنِ وسَعْدَتِها؛ وهو ما أدى  
إلى تراجع أعداد غير السعوديين  
وإحلال السعوديين مكانهم.

أ- يبين الطلبة أثر ذلك في اقتصاد  
المملكة.

ساعد ذلك في التخفيض من نسب  
البطالة في المملكة وخلق فرص  
عمل للشباب مما أدى إلى دعم  
الاقتصاد الوطني

ب- من أسباب نقص عدد السكان  
حوادث السير، يقترح الطلبة كيفية  
الوقاية من ذلك.

تتم الوقاية من حوادث السير عن  
طريق التزام قواعد المرور  
والحرص على اتخاذ إجراءات  
السلامة المرورية في الطرقات





## تقويم الدرس السادس



١ يذكر الطلبة اثنتين من فوائد التعداد السكاني.

١- تتيح فهم المجتمع وحل مشكلاته ٢- التخطيط لتطوير المجتمع وتنميته

٢ يصل الطلبة ما في المجموعة (أ) بما يناسبها في المجموعة (ب) باستعمال الأرقام:

المجموعة (ب)	المجموعة (أ)
٢ ( ٥,٠٠٠,٠٠٠ نسمة	١ عدد سكان المملكة التقديري عام ١٣٥١هـ
٥ ( ٢٢,٦٧٨,٢٦٢ نسمة	٢ عدد سكان المملكة التقديري عام ١٣٨٢هـ
٣ ( ١٦,٩٤٨,٣٨٨ نسمة	٣ عدد سكان المملكة عام ١٣٩٤هـ
٦ ( ٧,٠٠٩,٤٦٦ نسمة	٤ عدد سكان المملكة عام ١٤١٣هـ
١ ( ٢,٠٠٠,٠٠٠ نسمة	٥ عدد سكان المملكة عام ١٤٢٥هـ

٣ يذكر الطلبة اثنين من أسباب بطء نمو السكان قديماً في المملكة العربية السعودية.

قلة الموارد

الهجرة إلى الخارج



# تقويم الوحدة الأولى

الحلول اون لاين  
hulul.online



١ ما خصائص الموقع الفلكي للمملكة العربية السعودية؟

تقع معظم أراضي المملكة في المنطقة المدارية الحارة  
يمر مدار السرطان في وسط أراضي المملكة

٢ يضع الطلبة علامة (✓) أمام العبارة الصحيحة، وعلامة (x) أمام العبارة غير الصحيحة فيما يأتي:

- أ- الأمن والاستقرار من الأسباب المساعدة على زيادة أعداد السكان في وطني. صح  
ب- تتأثر المناطق الجنوبية في وطني بمناخ البحر المتوسط. خطأ  
ج- توافر فرص عمل في وطني أدى إلى زيادة الوافدين إليها. صح  
د - النزوح من الأرياف إلى المدن يسببهم في إهمال الأراضي الزراعية. صح  
هـ- تحيط بالمملكة العربية السعودية ست دول عربية فقط. خطأ

٣ يكمل الطلبة الفراغات الآتية:

أ- حسب تقديرات إحصاء عام ١٤٣٩هـ، كانت المملكة العربية السعودية من حيث عدد السكان في الترتيب .. الأولى .. بين دول شبه الجزيرة العربية، و .. السادسة .. عربياً، و .. إسلامياً ..

ب - تقع المملكة العربية السعودية في العروض ..... المدارية ..... وتتأثر بثلاثة أقاليم .. المداري شبه الموسمي .. الصحراوي .. المعتدل ..

٤ يسجل الطلبة المصطلح المناسب لما يأتي:

- أ- شكل بياني يساعد على فهم تركيب السكان النوعي والعمري. ( **الهرم السكاني** )  
ب- تقسيم السكان إلى ذكور وإناث. ( **التركيب النوعي** )  
ج- طُفوح بارزّة تكونت من حُمَم البركان. ( **الحرّات** )

٥ يختار الطلبة الخيار الصحيح فيما يأتي:

- أ- وسيلة لقياس توزيع السكان في الدولة أو المنطقة:  
☐ الزيادة الطبيعية ☐ الكثافة السكانية ☐ التركيب العمري ☐ التركيب النوعي
- ب- الهرم السكاني:  
☐ شكل نصّي ☐ شكل بياني ☐ شكل طبيعي ☐ شكل فوتوغرافي
- ج- يسمى القسم الجنوبي من المرتفعات الغربية:  
☐ جبال مدّين ☐ جبال الحجاز ☐ جبال السّروات ☐ جبال طويق

٦ يصحح الطلبة ما تحته خط فيما يأتي:

- أ- المملكة العربية السعودية في المركز الأول عربيّاً من حيث عدد السكان.

السادس

- ب- تقع المملكة العربية السعودية على مدار أكثر من ١٢ درجة عرضية.

16

- ج- تهطل الأمطار في وطني بقلّة ما عدا شمالها الشرقي.

جنوبها الغربي

٧ يصل الطلبة ما في المجموعة (أ) بما يناسبها من المجموعة (ب) باستعمال الأرقام فيما يأتي:

(ب)	(أ)
٥ (اختلاف التضاريس)	١ - تتنوع تضاريس وطني بسبب
٢ (قلة الموارد والهجرة إلى الخارج)	٢ - يخلو ساحل الخليج العربي من الأودية بسبب
٣ (الانسياط وقلة الارتفاع)	٣ - كان النمو السكاني في وطني في الماضي بطيئاً بسبب
١ (اتساع المساحة)	٤ - يقل عدد السكان في المناطق الجبلية الشاهقة بسبب
٤ (وعورة التضاريس)	٥ - يختلف مناخ وطني من منطقة لأخرى بسبب

٨ لماذا يتسم مناخ الربع الخالي بشدة الحرارة؟

لأن مناخه قاري حار جداً في الصيف وبارد في الشتاء والأمطار قليلة وتكاد تندر

٩ يعلل الطلبة ما يأتي:

أ- هجرة سكان الرُّيف إلى المدن:

لتوفر الخدمات وفرص العمل

ب- أهمية معرفة التركيب السكاني:

له أهمية كبرى في معرفة بناء المجتمع والنسبة بين الذكور والإناث حيث تساعد على التخطيط والتنمية



١٠ يحدد الطلبة نوع المناخ في مناطق المملكة في الجدول الآتي:

المنطقة	المناخ
١- المناطق الوسطى	حار صيفاً بارد شتاء - جاف
٢- المناطق الشمالية	حار صيفاً بارد شتاء - جاف
٣- المرتفعات الغربية	معتدل - شبه جاف

حلول  
الجلول اون لاين  
hulul.online