

خط الأعداد تظهر فيه الأعداد مرتبة



١١ قبل ١٢

١٣ بعد ١٢

١٢ بين ١١ و ١٣

فكرة الدرس

أرتب الأعداد

من صفر إلى ٢٠

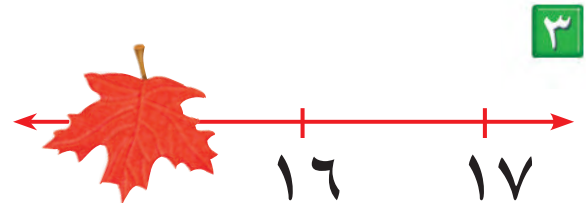
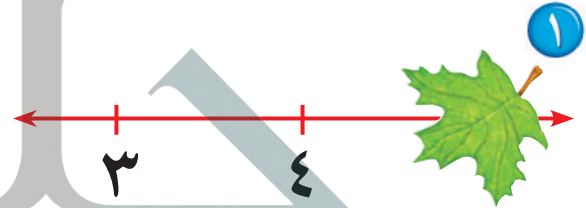
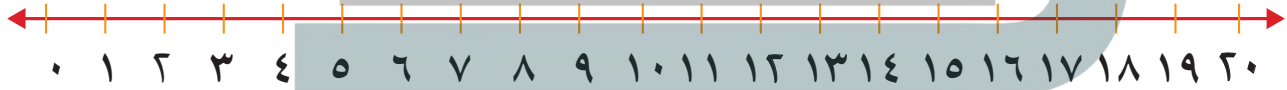
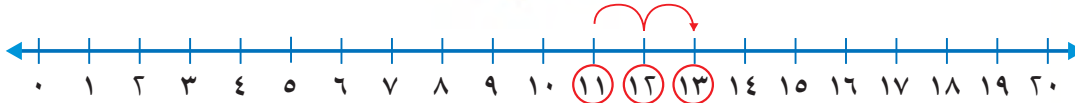
باستعمال خط

الأعداد.

المفردات

بين

خط الأعداد

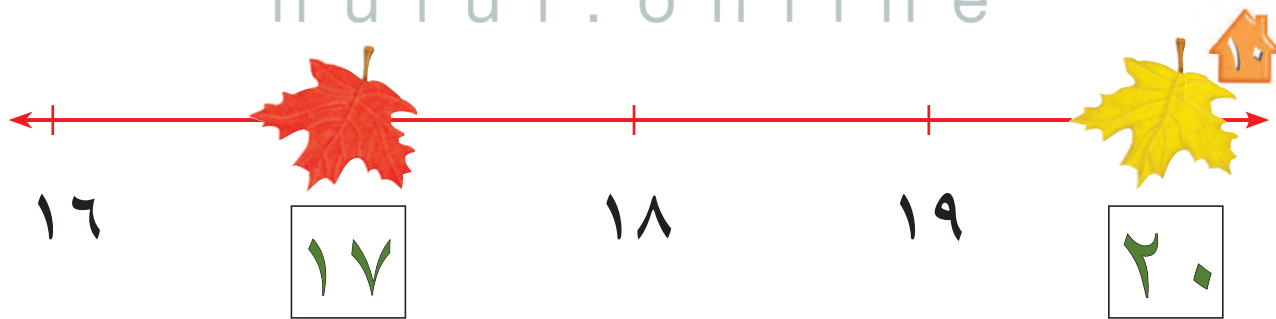

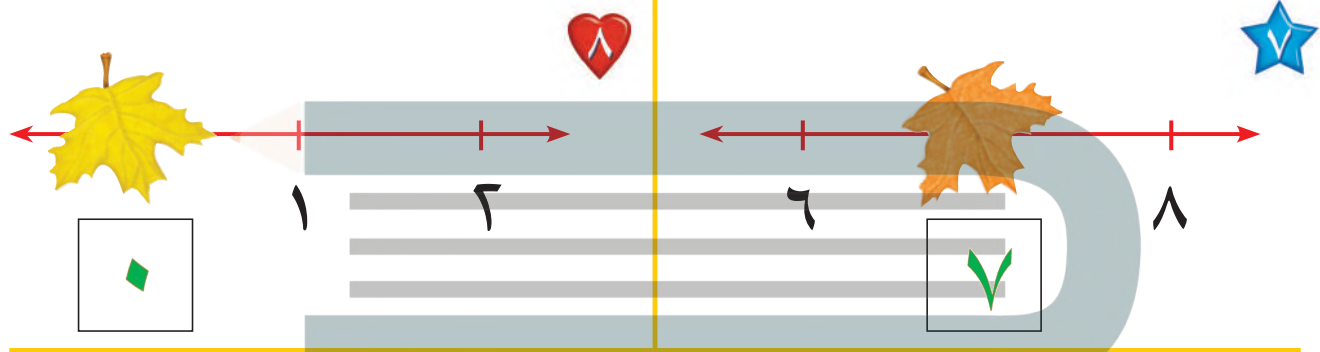
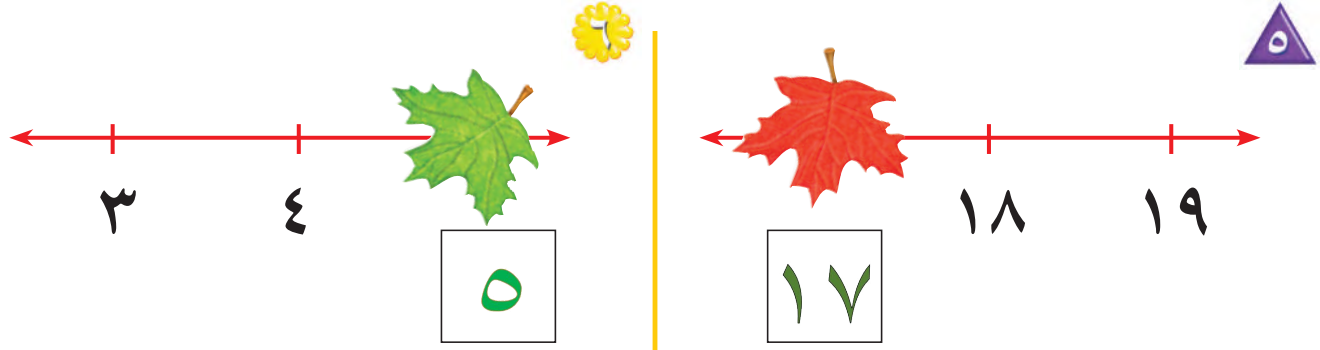


للمعلم :

٤-١ يكتب الطالب العدد المغطى بورقة الشجر في الفراغ .



٠ ١ ٢ ٣ ٤ ٥ ٦ ٧ ٨ ٩ ١٠ ١١ ١٢ ١٣ ١٤ ١٥ ١٦ ١٧ ١٨ ١٩ ٢٠



نشاط منزلي

قُصّ مربعات صغيرة، ثم اطلب إلى طفلك أن يرقمها بالأعداد من (٠ إلى ٢٠). واعرض عليه خمسة أعداد متتالية، ثم احذف أحدها، ثم اطلب إليه أن يجد العدد المفقود.



للمعلم :

١٠-٥ يكتب الطالب العدد المُنْغَطى بورقة الشجر في الفراغ .