
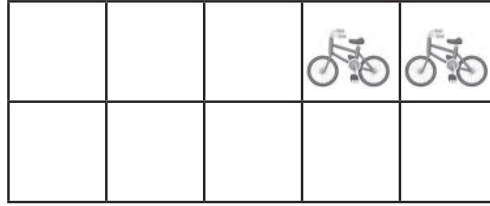






١

١٢



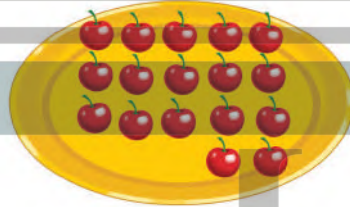
٦

١٥



٣


١٧




١٢



١٤



٤



١٦

١٧

١٨

١٩

٢٠

للمعلم :

٣-١ يعد الطالب الأشياء، ويكتب عددها.

٤- يعد الطالب الأشياء في كل مجموعة، ويكتب عددها، ثم يحيط المجموعة ذات العدد الأكبر.

٥- يكتب الطالب العدد المناسب في المربع.