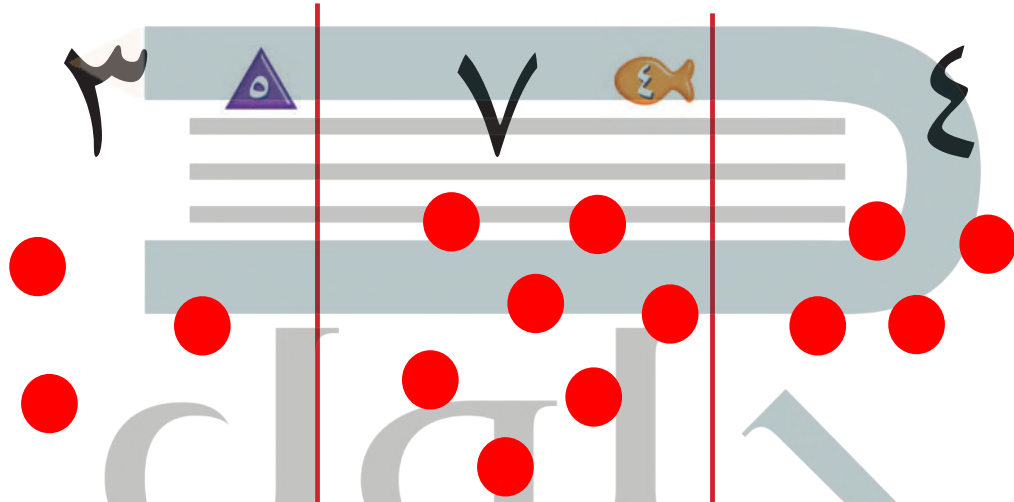




## التمهية



للمعلم:

٢-١ يكتب الطالب عدد التفاحات التي يراها في كلٍّ من الصورتين.

٥-٣ يرسم الطالب دوائر ليمثل العدد المعطى.

٦ يستعمل الطالب قطع العد ليمثل عدد الطيور في المجموعتين، ثم يكتب العدد الكلي لها.