


فِكْرَةُ الدَّرْسِ

أَجِدْ نَاتِجَ الْجَمْعِ
إِلَى الصِّفْرِ.



$$2 = 2 + 0$$

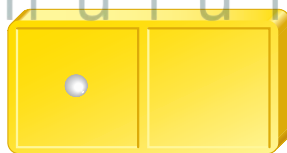
$$4 = 0 + 4$$



١

$$3 = 0 + 3$$

$$5 = 0 + 5$$



٣


$$1 = 1 + 0$$

$$6 = 0 + 6$$

للمعلم:

٤-١ يكتب الطالب ناتج الجمع.





$$7 = 7 + 0$$



$$8 = 0 + 8$$



$$3 = 3 + 0$$



$$2 = 0 + 2$$



$$8 = 8 + 0$$



$$7 = 0 + 7$$



$$4 = 1 + 3$$



$$6 = 2 + 4$$



$$3 = 3 + 0$$



$$3 = 2 + 1$$



$$5 = 5 + 0$$



$$4 = 2 + 2$$

نشاط منزلي



ضع بعض الأزهار أو قطع النقود المعدنية في إحدى

كفيك، ثم أغلق الكفين. واطلب إلى طفلك أن يخمن:

أي الكفين لا تحمل شيئاً (صفرًا)؟

للمعلم:

١٦-٥ يكتب الطالب ناتج الجمع.



١

٦

| جزء | جزء | جزء | جزء |
|------|------|------|------|
| ٥ | ٣ | ٤ | ١ |
| الكل | الكل | الكل | الكل |
| ٨ | ٥ | | |



$$\begin{array}{l}
 ٩ = ٠ + ٩ \\
 ٧ = ٤ + ٣
 \end{array}
 \quad
 \begin{array}{l}
 ٢ = ٢ + ٠ \\
 ٤ = ٣ + ١
 \end{array}$$

للمعلم:

- ١- يحكي الطالب قصة عددية مستعملاً قطع العد. ثم يكتب عدد القوارب.
- ٢- يستعمل الطالب قطع العد ليجد المجموع (الكل).
- ٣- يكتب الطالب ناتج الجمع.

