



مراجعة تراكمية الفصول ١-٦

١

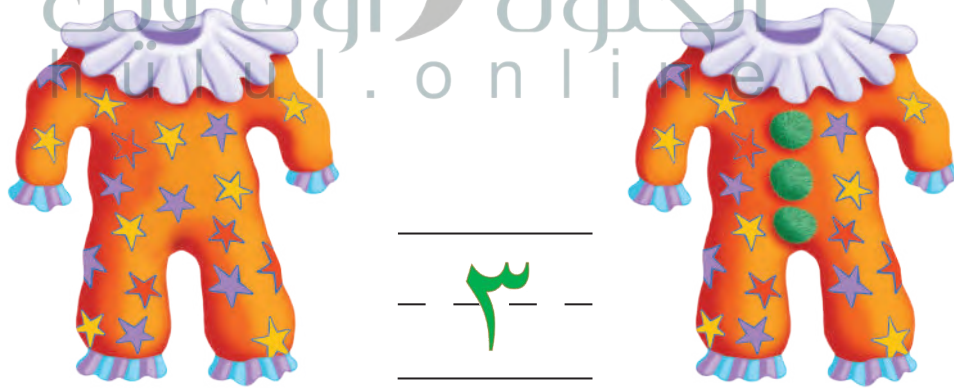


١٤

٢



٣



٣

للمعلم:

- ١- يعد الطالب مجموعة الدمى، ثم يكتب العدد.
- ٢- يصف الطالب الشكل الملون داخل الإطار، ثم يحوّل الشكل المماثل له، ويضع علامة × على الشكل المختلف عنه.
- ٣- يعد الطالب الأزهار الخضراء في كل زيّ مهرج، ثم يكتب العدد في الفراغ.