

فِكْرَةُ الدَّرْسِ

أَجْمَعُ أَفْقِيًّا
وَرَأْسِيًّا.

٣
٢
+

٥

ناتج الجمع →

٥ = ٢ + ٣

٥
١
+

٦

٦ = ١ + ٥

٤
٣
+


٧

٧ = ٣ + ٤

للمعلم:

٤-١ ينظر الطالب إلى قطعة الدومينو ويكتب الأعداد، ثم يجد ناتج جمعها.



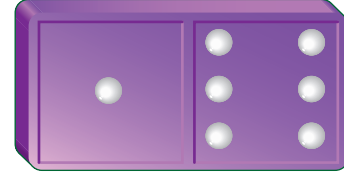


6

1

+

7



$$7 = 1 + 6$$

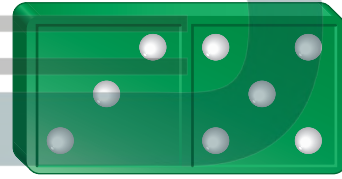


5


3

+

8



$$8 = 3 + 5$$




2

4

+

6



$$6 = 4 + 2$$



نشاط منزلي

أعط طفلك جملة جمع، ثم اطلب إليه أن يجمعها أفقيًا ثم عموديًا.



للمعلم:

١٠-٥ ينظر الطالب إلى قطعة الدومينو ويكتب الأعداد، ثم يجد ناتج جمعها.