




١



٩

٢



٦

$$9 = 0 + 9$$



$$7 = 6 + 1$$

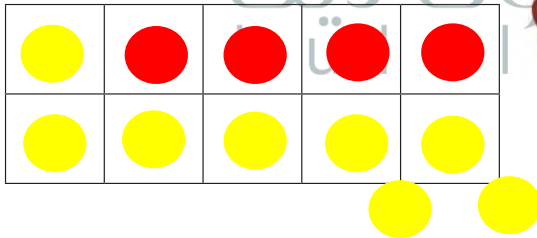
٣

$$\begin{array}{r} 3 \\ 1 \\ \hline 4 \end{array}$$

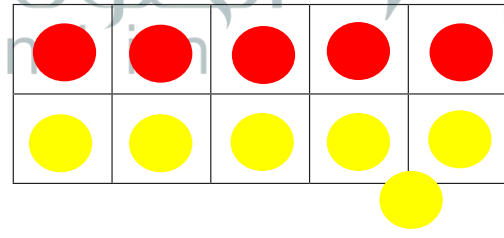


$$\begin{array}{r} 5 \\ 4 \\ \hline 9 \end{array}$$

٥



٨



٧

$$12 = 8 + 4$$

$$11 = 6 + 5$$

للمعلم:

٢-١ يكتب الطالب العدد الذي يمثل ناتج قصة الجمع التي تصف الصورة.

٦-٣ يكتب الطالب ناتج الجمع.

-٧ يرسم الطالب دوائر ليكون العدد ١١، ثم يكتب العددين.

-٨ يرسم الطالب دوائر ليكون العدد ١٢، ثم يكتب العددين.