

أَسْتَعْمِلُ

فِكْرَةُ الدَّرْسِ

أَقَارِنُ بَيْنَ عَدَدَيْنِ
مُسْتَعْمِلًا الإِشَارَاتِ
(=, >, <).

المُفْرَدَاتُ

المُقَارَنَةُ

أَكْبَرُ مِنْ <

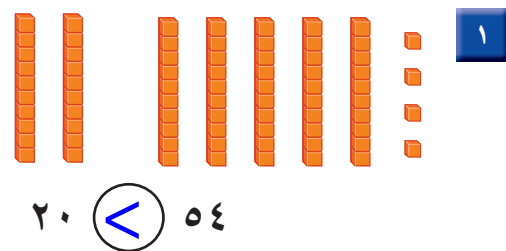
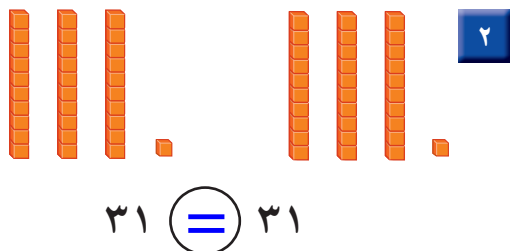
أَصْغَرُ مِنْ >

يُسَاوِي =

أَقَارِنُ بَيْنَ العَشْرَاتِ،
فَإِذَا كَانَتْ مُتَسَاوِيَةً،
أَقَارِنُ بَيْنَ الآحَادِ.

أَتَأَكَّدُ

أَقَارِنُ بَيْنَ كُلِّ عَدَدَيْنِ، وَأَكْتُبُ <, >, = فِي ○. أَسْتَعْمِلُ ■ وَ ■ :



كَيْفَ أَفْسِّرُ أَنَّ ٢٨ أَكْبَرُ مِنْ ٢٦ ؟

أَتَحَدَّثُ

بعد التأكد من تساوي العشرات، وبمقارنة الآحاد وجدنا أن ٨ أكبر من ٦ إذاً: ٢٨ أكبر من ٢٦

أَتَذَكَّرُ

أُقَارِنُ بَيْنَ الْعَشَرَاتِ أَوَّلًا.

أَتَدْرِبُ

أُقَارِنُ بَيْنَ كُلِّ عَدَدَيْنِ، وَأَكْتُبُ (<، >، =) فِي ٠. أَسْتَعْمِلُ ■ وَ ■ :



$$23 = 23$$

$$31 > 30$$

$$26 > 25 \quad 10 \quad 92 = 92 \quad 9 \quad 50 < 81 \quad 8$$


$$55 = 55 \quad 13 \quad 98 > 89 \quad 12 \quad 76 < 77 \quad 11$$

$$74 > 0 \quad 16 \quad 39 < 49 \quad 15 \quad 60 > 21 \quad 14$$

$$69 < 70 \quad 19 \quad 24 < 42 \quad 18 \quad 80 = 80 \quad 17$$

$$40 > 30 \quad 22 \quad 53 > 38 \quad 21 \quad 15 = 15 \quad 20$$

أَحْلُ الْمَسْأَلَةَ



٢٣ الحِسُّ الْعَدَدِيُّ: أَرَادَ فَهْدٌ أَنْ يَشْتَرِيَ مَجْمُوعَةً

مِنَ الْكُرَاتِ الزُّجَاجِيَّةِ مِنْ مَحَلِّ الْأَعَابِ، فَقَالَتْ لَهُ
أُمُّهُ: إِنَّهُ يَسْتَطِيعُ أَنْ يَشْتَرِيَ أَقَلَّ مِنْ ٢٥. مَا أَكْبَرُ عَدَدٍ

يُمْكِنُ أَنْ يَشْتَرِيهِ فَهْدٌ؟ $25 > 24$

نشاط منزلي



وزارة التعليم

اطلب إلى طفلك أن يذكر عددين أكبر من ٥٢، وعددين أقل من ٥٢

2020 - 1442