



أختار الإجابة الصحيحة:

٤ مَا حَقِيقَةُ جَمْعِ الْعَدَدِ وَنَفْسِهِ الَّتِي لَهَا نَاتِجُ الْجَمْعِ نَفْسُهُ؟

$$\square = 7 + 9$$

$$8 + 8$$



$$9 + 9$$



$$6 + 6$$



$$7 + 7$$



١ مَعَ فَيَصِلُ ١٢ رِيَالًا، إِذَا اشْتَرَى دَفْتَرًا بِـ ٩ رِيَالَاتٍ، وَبَقِيَ مَعَهُ ٣ رِيَالَاتٍ، فَمَا الْحَقِيقَةُ الَّتِي تُمَثِّلُ هَذِهِ الْمَسْأَلَةَ؟

$$3 = 9 - 12$$



$$12 = 9 + 3$$



$$9 = 3 - 12$$



$$12 = 2 + 9$$



٥ مَا حُلُّ الْمَسْأَلَةِ التَّالِيَةِ؟

$$\dots = 1 - 9$$

$$8$$



$$7$$



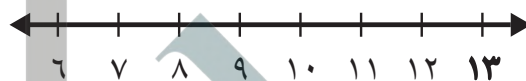
$$10$$



$$9$$



٢ أَعِدُّ تَنَازُلِيًّا لِأَجَدِ نَاتِجَ الطَّرْحِ مُسْتَعْمِلًا خَطَّ الْأَعْدَادِ:



$$\dots = 2 - 13$$

$$12$$



$$11$$



$$10$$



$$9$$



٦ أَيُّ الْجُمَلِ الْآتِيَةِ تُسْتَعْمَلُ لِلتَّحَقُّقِ مِنْ صَحَّةِ نَاتِجِ : ٥ - ١٢ ؟

$$5 = 7 - 12$$



$$17 = 5 + 12$$



$$12 = 7 + 5$$



$$10 = 5 + 5$$



٣ أَيُّ الْحَقَائِقِ التَّالِيَةِ أَسْتَعْمِلُهَا لِأَجَدِ الْعَدَدَ الْمَفْقُودَ؟

$$13 = \square + 8$$

$$21 = 8 + 13$$



$$5 = 8 - 13$$



$$3 = 5 - 8$$



$$7 = 6 - 13$$



١٠ مع سعاد ٥ حبات من الكرز، ومع سمر ٧ حبات. كم حبة مع الفتاتين؟



١٢ حبة

٧ مع سارة ٧ وردات، وأعطتها منى ٧ وردات أخرى. كم وردة أصبحت مع سارة؟

١٣
١٤
١٥
٢٠

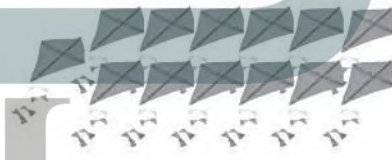
١١ يبين الجدول الآتي كرات التيس في مدرسة.

مجموعة كرات التيس	
اللون	العدد
أبيض	١٢
أخضر	٥
أصفر	٧

ما الحقيقة التي تبين عدد الكرات البيضاء التي تزيد على عدد الكرات الخضراء؟

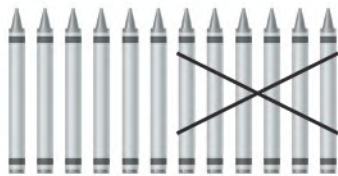
١٢ - ٧
١٢ + ٧
١٢ - ٥
٧ - ٥

٨ أنظر إلى الطائرات الورقية أدناه. ما عددها تقريباً؟



١٠ تقريباً
٢٠ تقريباً
٣٠ تقريباً
٤٠ تقريباً

١٢ لدى تركي ١٢ قلم تلوين، أعطى صديقه ٦ منها. كم قلم تلوين بقي لدى تركي؟



٦ أقلام تلوين

٩ ما العدد الواقع بين العددين ٦٧، ٧٤؟



٦٧
٦١
٧٧
٧٠