

# أَكْثَرُ إِمْكَانِيَّةٍ - أَقَلُّ إِمْكَانِيَّةٍ

٨-٤

## أَسْتَعِدُّ

### فِكْرَةُ الدَّرْسِ

أَصِفُ الْحَوَادِثَ وَفَقِّ  
إِمْكَانِيَّةَ وَقُوعِهَا.

### الْمُفْرَدَاتُ

أَكْثَرُ إِمْكَانِيَّةٍ



أَقَلُّ إِمْكَانِيَّةٍ

أَصِفُ إِمْكَانِيَّةَ وَقُوعِ حَدَثٍ مَا بِأَكْثَرِ إِمْكَانِيَّةٍ، أَوْ أَقَلِّ إِمْكَانِيَّةٍ،  
وَذَلِكَ بِحَسَبِ فُرْصَةِ حُدُوثِهِ.

يَسْحَبُ جَمَالٌ قَلَمَ تَلْوِينٍ مِنَ الْكِيسِ مِنْ غَيْرِ أَنْ يَنْظُرَ إِلَيْهِ. فَأَيُّهُمَا



أَكْثَرُ إِمْكَانِيَّةٍ: أَنْ يَسْحَبَ  أَمْ  ؟

عَدَدُ  يَزِيدُ عَلَى عَدَدِ .

إِذَنْ إِمْكَانِيَّةُ سَحَبِ  هِيَ أَكْثَرُ إِمْكَانِيَّةٍ.

اللون	الإشارات
أحمر	
أخضر	

١. يَسْحَبُ جَمَالٌ قَلَمَ أَلْوَانٍ مِنَ الْكِيسِ.

٢. ثُمَّ يُسَجِّلُ اللَّوْنَ فِي جَدُولِ الْإِشَارَاتِ.

٣. ثُمَّ يُعِيدُ الْقَلَمَ إِلَى الْكِيسِ. وَيُكْرِّرُ الْعَمَلِيَّةَ ١٠ مَرَّاتٍ.

## أَتَأْكُدُ

### الخطوات

(١) أَسْحَبُ مُكْعَبًا.

(٢) أَسَجِّلُ اللَّوْنَ فِي جَدُولِ الْإِشَارَاتِ.

(٣) أُعِيدُ الْمُكْعَبَ إِلَى الْكِيسِ.

أَحَوِّطُ الْإِجَابَةَ الصَّحِيحَةَ: (أَكْثَرُ إِمْكَانِيَّةٍ، أَقَلُّ  
إِمْكَانِيَّةٍ)، مُتَّبِعًا الْخُطُواتِ فِي الشَّكْلِ الْمُقَابِلِ ثُمَّ  
أَكْرُرُهَا ١٠ مَرَّاتٍ؛ لِأَكْمِلَ جَدُولَ الْإِشَارَاتِ:

٢. أَضَعُ ٤  وَ ٢  فِي كَيْسٍ.

اللون	الإشارات
أخضر	
أحمر	



١. يُوجَدُ ٤  وَ ٢  فِي كَيْسٍ.

سَحَبُ  ..... مِنْ سَحَبِ 

أَقَلُّ إِمْكَانِيَّةٍ أَكْثَرُ إِمْكَانِيَّةٍ

هَلْ تَتَّفَقُ النَّتَائِجُ الَّتِي حَصَلَتْ عَلَيْهَا فِي جَدُولِ الْإِشَارَاتِ مَعَ إِجَابَتِي  
عَنِ السُّؤَالِ (١)؟ أَشْرَحُ.

## أَتَحَدَّثُ

٣


### الخطوات

- (١) أَسْحَبُ مُكَعَّبًا.
- (٢) أَسْجُلُ اللَّوْنَ فِي جَدُولِ الْإِشَارَاتِ.
- (٣) أَعِيدُ الْمَكْعَبَ إِلَى الْكَيْسِ.



أَحَوِّطُ الْإِجَابَةَ الصَّحِيحَةَ: (أَكْثَرُ إِمْكَانِيَّةٍ، أَقَلُّ إِمْكَانِيَّةٍ)، مُتَّبِعًا الْخُطَوَاتِ فِي الشَّكْلِ الْمُقَابِلِ ثُمَّ أَكْرِّرُهَا ١٠ مَرَّاتٍ؛ لِأُكْمِلَ جَدُولَ الْإِشَارَاتِ:

٦ أَضَعُ ٢  وَ ٦  فِي كَيْسٍ.



اللون	الإشارات
أَحْمَرُ 	II IIII
أَصْفَرُ 	III

٤ يُوجَدُ ٢  وَ ٦  فِي كَيْسٍ.

سَحَبُ  مِنْ سَحَبِ  أَكْثَرُ إِمْكَانِيَّةٍ أَقَلُّ إِمْكَانِيَّةٍ

٧ أَضَعُ ٥  وَ ٤  فِي كَيْسٍ.







اللون	الإشارات
أَحْمَرُ 	I IIII
أَصْفَرُ 	IIII

٥ يُوجَدُ ٥  وَ ٤  فِي كَيْسٍ.

سَحَبُ  مِنْ سَحَبِ  أَكْثَرُ إِمْكَانِيَّةٍ أَقَلُّ إِمْكَانِيَّةٍ

### أَحْلُ الْمَسْأَلَةَ

٨ التَّفَكِيرُ الْمَنْطِقِيُّ: وَضَعْتُ لَيْلَى ٥  وَ ٥  فِي كَيْسٍ. أَيُّهُمَا إِمْكَانِيَّةٌ حَدُوثِهِ أَكْثَرُ مِنَ الْآخِرِ: سَحَبُ  أَمْ ؟ أَوْضِّحْ إِجَابَتِي.

إِمْكَانِيَّةُ سَحَبِ أَيِّ مِنْهُمَا مِثْلَاوِيَةً لِتَسَاوِيِ الْأَعْدَادِ مِنْ كُلِّ لَوْنٍ فِي الْكَيْسِ.

نشاط منزلي

اطلب إلى طفلك أن يضع قلمين أحمرين، وأربعة أقلام زرقاء في كيس، ثم أسأله عن القلم الأكثر إِمْكَانِيَّةً فِي الظهور فيما لو سحب قلمًا من الكيس.