



أختارُ الإجابةَ الصحيحةَ:

٤ أنظرُ إلى الشكلِ أدناه الذي يُبينُ عددَ الأهدافِ التي أحرزها كُلُّ لاعبٍ في هذهِ السَّنةِ، ثُمَّ أجدُ كمَّ يزيدُ عددُ أهدافِ كَمالٍ على عددِ أهدافِ سلمان.



- ٣
☐
- ٧
☐
- ٢
☒
- ٤
☐

١ أَمَلًا الفَراغَ بِالْعَدَدِ الْمُناسِبِ فِي النَّمَطِ: ٤٢، —، ٣٦، ٣٣

- ٣٨
☐
- ٤٠
☐
- ٣٧
☐
- ٣٩
☒

٢ أجدُ نَاتيِجَ ٤ + ٨ + ٦

- ١٢
☐
- ١٨
☒
- ١٠
☐
- ١٤
☐

٥ أنظرُ إلى جَدُولِ الإِشَارَاتِ أدناه. كمَّ طالِبًا لَدَيْهِ لُعبَةٌ واحِدَةٌ؟

الإِشَارَاتُ	عَدَدُ اللَّعِبِ
	١
	٢
	٣
	٤

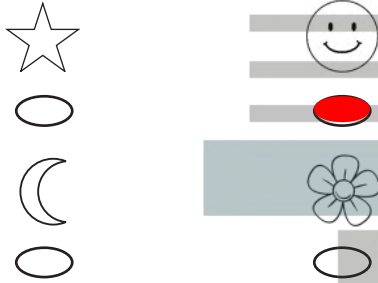
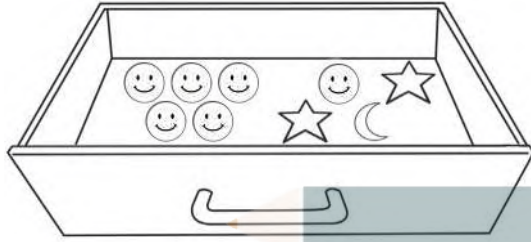
- ٣
☐
- ٨
☒
- ٢
☐
- ٦
☐

٣ أَكْتُبُ العَدَدَ المَفْقُودَ فِي الجُمْلَةِ العَدَدِيَّةِ: ١٧ = □ + ٧

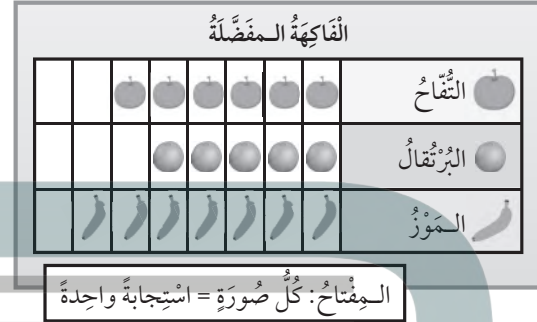
- ٧
☐
- ٠
☐
- ١٠
☒
- ٣
☐



٨ أَنْظِرْ إِلَى الْمُلصَقَاتِ الْمَوْجُودَةِ فِي الدَّرَجِ. إِذَا اخْتَارْتَ بِاسْمَةِ مُلصَقًا دُونَ أَنْ تَنْظُرَ إِلَيْهِ، فَمَا الْمُلصَقُ الَّذِي يَكُونُ التَّقَاطُفُ أَكْثَرَ إِمْكَانِيَّةً؟



٦ أَنْظِرْ إِلَى الشَّكْلِ أَذْنَاهُ، الَّذِي يُبَيِّنُ أَصْنَافَ الْفَوَاكِهِ الْمَفْضَلَةِ لَدَى الْأَطْفَالِ، ثُمَّ أَجِدْ كَمْ طِفْلاً اخْتَارَ الْبُرْتُقَالَ.



٩ يُبَيِّنُ جَدُولُ الْإِشَارَاتِ أَذْنَاهُ عَدَدَ السَّيَّارَاتِ الَّتِي تَمْتَلِكُهَا إِحْدَى الشَّرَكَاتِ فِي ٤ بُلْدَانٍ مُخْتَلَفَةٍ. مَا الْعَدَدُ الْكُلِّيُّ لِلْسَّيَّارَاتِ الْمَمْلُوكَةِ لِلشَّرَكَةِ؟

الْبَلَدُ	الْإِشَارَاتُ
الْكُوَيْتُ	
السُّعُودِيَّةُ	
الْبَحْرَيْنُ	
الإِمَارَاتُ	

٧ التَّمَثِيلُ بِالْأَعْمَدَةِ أَذْنَاهُ، يُمَثِّلُ تَوْفِيرَ فَيَصِلُ فِي ٤ شُهُورٍ. كَمْ كَانَ تَوْفِيرُهُ فِي شَهْرِ رَبِيعِ الْأَوَّلِ؟

