


أَسْتَعِدُّ

فِكْرَةُ الدَّرْسِ

أَطْرَحُ الْعَشَرَاتِ
بِاسْتِعْمَالِ حَقَائِقِ
الطَّرْحِ.

أَعْرِفُ أَنَّ $5 - 1 = 4$ ، إِذَنْ
 $50 = 10 - 50$

حَقَائِقُ الطَّرْحِ تُسَاعِدُنِي
عَلَى طَرْحِ الْعَشَرَاتِ.




٥ عَشَرَاتٍ - ١ عَشَرَاتٍ = ٤ عَشَرَاتٍ

$$50 - 10 = 40$$


أَتَأَمَّلُ

أَسْتَعْمِلُ حَقَائِقَ الطَّرْحِ وَ : لِأَجْدَ نَاتِجِ الطَّرْحِ :




٤ عَشَرَاتٍ - ٢ عَشَرَاتٍ =

$$40 - 20 = 20$$



٦ عَشَرَاتٍ - ٤ عَشَرَاتٍ =

$$60 - 40 = 20$$





٥ عَشَرَاتٍ - ٢ عَشَرَاتٍ =

$$50 - 20 = 30$$

٣ عَشَرَاتٍ - ١ عَشَرَاتٍ =

$$30 - 10 = 20$$



$$70 - 30 = 40$$



$$80 - 40 = 40$$

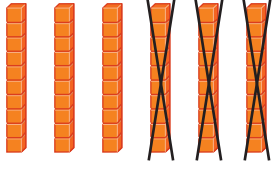


كَيْفَ أَسْتَفِيدُ مِنْ حَقِيقَةِ الطَّرْحِ ٩ - ٦ لِأَجْدَ النَّاتِجِ ٩٠ - ٦٠ ؟

أَتَحَدَّثُ

٧

أَسْتَعْمِلُ حَقَائِقَ الطَّرْحِ وَ لَأَجِدَ نَاتِجَ الطَّرْحِ:

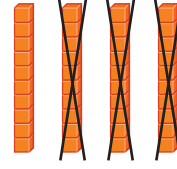


٩

٦ عَشْرَاتٍ - ٣ عَشْرَاتٍ

..... عَشْرَاتٍ ٣ =

$$30 - 60 = 30$$



٨

٤ عَشْرَاتٍ - ٣ عَشْرَاتٍ

..... عَشْرَاتٍ ١ =

$$40 - 30 = 10$$

١١ ٦ عَشْرَاتٍ - ١ عَشْرَاتٍ

..... عَشْرَاتٍ ٥ =

$$60 - 10 = 50$$

١٠ ٥ عَشْرَاتٍ - ٣ عَشْرَاتٍ

..... عَشْرَاتٍ ٢ =

$$50 - 30 = 20$$

١٣ ٧ عَشْرَاتٍ - ٤ عَشْرَاتٍ

..... عَشْرَاتٍ ٣ =

$$70 - 40 = 30$$

١٢ ٢ عَشْرَاتٍ - ٦ عَشْرَاتٍ

$$\begin{array}{r} 90 \\ - 50 \\ \hline 40 \end{array}$$

$$\begin{array}{r} 70 \\ - 60 \\ \hline 10 \end{array}$$

$$\begin{array}{r} 80 \\ - 30 \\ \hline 50 \end{array}$$

$$\begin{array}{r} 20 \\ - 10 \\ \hline 10 \end{array}$$

$$\begin{array}{r} 60 \\ - 40 \\ \hline 20 \end{array}$$

$$\begin{array}{r} 90 \\ - 70 \\ \hline 20 \end{array}$$

$$\begin{array}{r} 80 \\ - 20 \\ \hline 60 \end{array}$$

$$\begin{array}{r} 50 \\ - 40 \\ \hline 10 \end{array}$$

أَحْلُ الْمَسْأَلَةَ

٢٢ الحُسْنُ الْعَدَدِيُّ: اشْتَرْتُ نُورَةَ ٧٠ قَلَمًا؛ مِنْهَا ٢٠ قَلَمًا أَزْرَقَ،
وَالْبَاقِي أَقْلَامٌ خَضِرَاءُ. كَمْ قَلَمًا أَخْضَرَ اشْتَرْتُ نُورَةُ؟

$$70 - 20 = 50 \text{ قَلَمًا أَخْضَرَ}$$

نشاط منزلي

ضع ٦ أوراق نقدية من فئة ١٠ ريالات ، ثم اعزل ٤ أوراق منها
(أي ٤ عشرات) ، واسأل طفلك: كم ريالاً بقي؟