

نشاط للدرس (٤ - ١)

تمثيل العبارات العددية

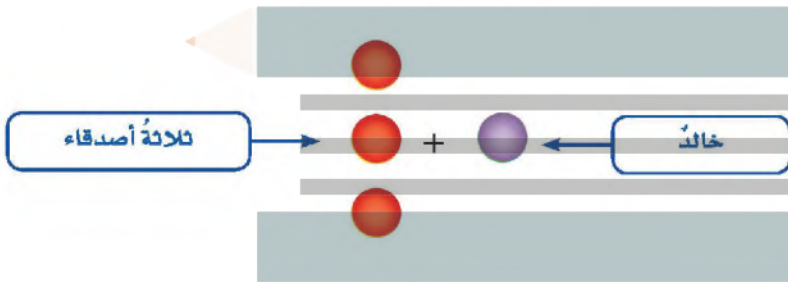
استكشاف

تتضمن العبارة أعدادًا وعمليات، وتمثل كمية رياضية.

نشاط

١ دعا خالد ثلاثة من أصدقائه إلى منزله. مثل هذه العبارة باستعمال الرسوم والكلمات والأعداد.

الخطوة ١: استعمال الرسم.

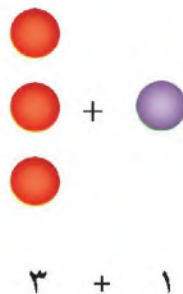


الخطوة ٢: استعمال الكلمات.



واحد زائد ثلاثة

الخطوة ٣: استعمال الأعداد.



$$3 + 1$$

فكرة الدرس

أمثل عبارات الجمع والطرح باستعمال الرسوم والكلمات والأعداد.

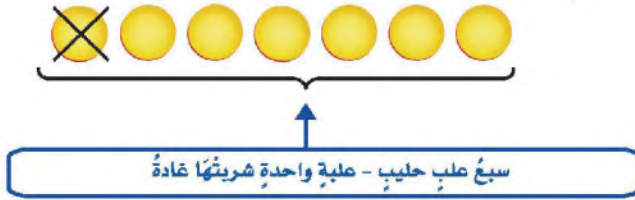
المفردات

العبارة

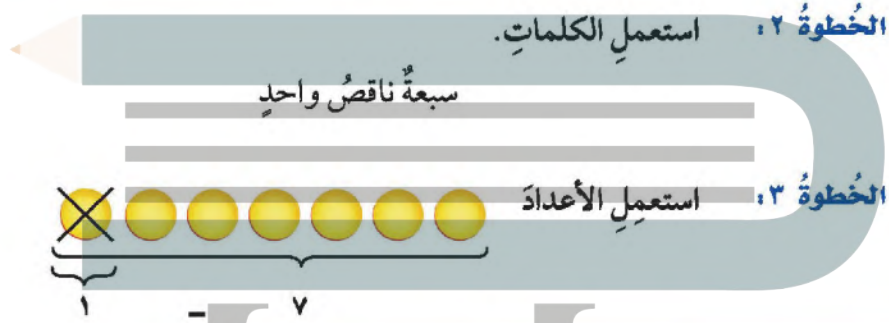


٢ في الثلاجة ٧ علبة حليب. إذا شربت عادة واحدة منها، فمثل هذه العبارة باستعمال الرسوم والكلمات والأعداد.

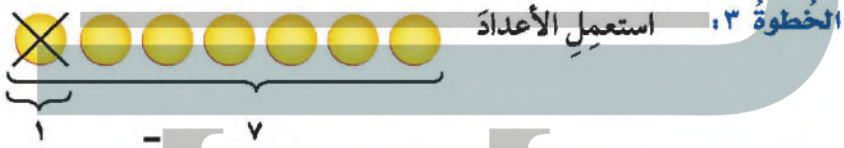
الخطوة ١: استعمال الرسم.



الخطوة ٢: استعمال الكلمات.



الخطوة ٣: استعمال الأعداد.



فكر

لتوضيح أنه تم طرح واحد

الجمع.

الطرح.

١ في النشاط ٢؛ لماذا وضعت إشارة X على إحدى قطع العد؟

٢ ما العملية التي تمثل الكلمتين: كسب، أو اشترى مزيداً من؟

٣ ما العملية التي تمثل الكلمتين: خسر، أو فقد؟

تأكد

واحد زائد أربعة 4+1

مثل العبارات التالية باستعمال الرسوم والكلمات والأعداد:

٥ سجل فريق كرة قدم هدفاً في الشوط الأول، ثم سجل ٤ أهداف أخرى في الشوط الثاني.

٤ كان عند مها ١٢ لعبة، فأهدت أختها ٥ منها.

اثني عشر ناقص خمسة 12-5

٧ أعد المطعم ١٠ شطائر، ثم أكل الزبائن ٦ شطائر منها.

٦ لدى محمد ٦ قصص، ثم اشترى ٨ قصص أخرى.

عشرة ناقص ستة 10-6

ستة زائد ثمانية 6+8

٨ عبارة عددية، ثم مثلها بالرسم والكلمات والأعداد.

اكتب

واحد زائد واحد 1+1

الفصل الرابع: الأتم

١٠٤