

اختبار منتصف الفصل

الدروس من ٢-١ إلى ٣-٢



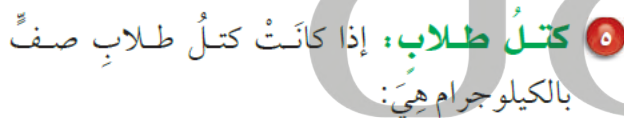
١ **حقائب مدرسية:** مثل بيانات الجدول أدناه
 في جدول تكراري، ثم أوجد عدد الحقائب التي
 سعرها بين ٥٠ ريالاً، ٦٩ ريالاً. (الدرس ٢ - ١)

أسعار الحقائب المدرسية (بالريال) التي اشترها طلاب صف				
٧٥	٦٣	١٣٩	٦٧	٩٩
٧٨	٧٠	٥٩	٨٩	٥٩
١١٠	٦٤	١٢٥	٥٥	٩٩

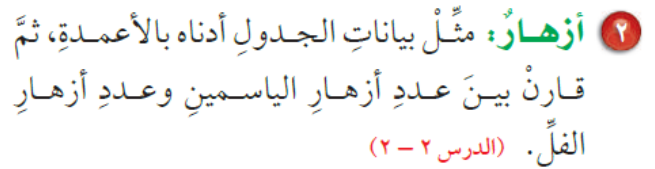
التكرارات	الإشارات	الأسعار
1		55
2		59
1		63
1		64
1		67
1		70
1		75
1		78
1		89
2		99
1		110
1		125
1		139

عدد الحقائب بين 50 و 69 ريال = 6

مثّل بيانات الجدول بالخطوط، وصِف التغير في طول السمكة من عمر أسبوعين إلى عمر ٦ أسابيع. (الدور ٢ - ٢)



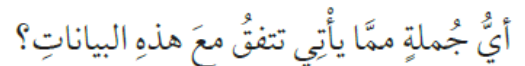
هذه البيانات بالنقاط. (الدرس ٢ - ٣)



اللون	عدد الأزهار
أصفر	38
أحمر	27
أبيض	13
بنفسجي	9

اختيارٌ من متعدد: الجدول أدناه يمثل أسعار

٥ وجباتٍ بالريال في أحد المطاعم. (الدرس ٢-٢)



(أ) وجبة الكبسة هي الأقل سعراً.

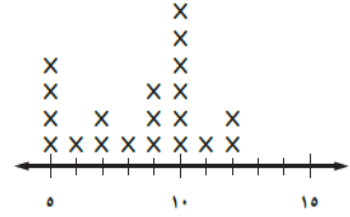
(ب) سعر وجبة السمك يزيد ١٥ ريالاً على سعر وجبة المندى.

(ج) سعرُ وجبة المشويات نصفُ سعرِ وجبة الخضار.

(د) سعرُ وجبة الخضار نصفُ سعرِ وجبة المشويات.

نقود: يعرض التمثيل بالنقاط أدناه المبالغ من النقود التي مع ٢٠ طالباً. (الدرس ٢ - ٣)

مبالغ النقود مع الطلاب



٦ ما عدد الطلاب الذين معهم ٩ ريالاً؟

3 طلاب

٧ ما عدد الطلاب الذين معهم أقل من ٨ ريالاً؟

7 طلاب

٨ ما المبلغ الذي مع أكثر عدد من الطلاب؟

10 ريال